

Принято на заседании
Педагогического совета
МБОУ «Лицей №18»
«30» 08 2023 г.
Протокол №10

Утверждаю
Директор _____ А.В.Сахаров
Приказ № 49-ОД
«31»08 2023 г.

**Образовательная программа
деятельности по формированию у обучающихся
навыков безопасного поведения
на дорогах и улицах для обучающихся
г. Сарапула**

г. Сарапул, 2023 г.

СОДЕРЖАНИЕ

1.	Паспорт программы	3
2.	Пояснительная записка	4
3.	Цель программы	5
4.	Задачи программы	5
5.	Нормативно-правовое обеспечение программы	6
6.	Управленческая деятельность по кадровому обеспечению	6
7.	Управленческая деятельность по информационному обеспечению	6
8.	Функциональное обеспечение создания реализации программы: - функции директора и администрации школы в реализации программы; - Функции классного руководителя в реализации программы	7
9.	Прогнозируемый результат	7
10.	Учебный план	7
11.	Циклограмма проведения срезов знаний обучающихся по изучению ПДД	7
12.	Перечень знаний и умений, которыми должны владеть обучающиеся классов по правилам и безопасному поведению на дорогах (образовательный результат)	с 8 по 53
13.	Организация и содержание учебно-воспитательного процесса с обучающимися по классам (тематическое планирование)	с 9 по 54
14.	Контрольно – измерительные материалы (тесты)	с 10 по 59
15.	Механизм реализации программы	59
16.	Организация и контроль хода реализации программы	59
17.	Оценка эффективности реализации программы	60
18.	Список литературы	60
19.	Приложение Ключи ответов к тестам Рецензия на образовательную программу	61

ПАСПОРТ ПРОГРАММЫ

Наименование программы	Образовательная программа деятельности по формированию у обучающихся навыков безопасного поведения на дорогах и улицах для обучающихся г. Сарапула
Основание разработки программы	Стратегия безопасности дорожного движения в Российской Федерации на 2018 - 2024 годы, утвержденная распоряжением Правительства РФ от 8 января 2018 г. № 1-р. Подпрограмма "Повышение безопасности дорожного движения" на 2014 - 2025 годы Государственной программы Удмуртской Республики "Развитие транспортной системы Удмуртской Республики" (в ред. постановления Правительства Удмуртской Республики от 28.10.2019 N 490).
Цель программы	Создание условий для формирования у обучающихся устойчивых навыков безопасного поведения на улицах и дорогах
Задачи программы	<ul style="list-style-type: none"> - предоставить обучающимся базовое образование в рамках государственных стандартов. - сформировать у обучающихся устойчивые навыки соблюдения и выполнения Правил дорожного движения. - отслеживать результативность работы всех участников образовательной организации с помощью системы мониторинговой деятельности администрации ОУ - применять современные формы и методы обучения и воспитания, инновационные технологии, направленные на предупреждение несчастных случаев на улицах и во дворах. - поддерживать у родителей обучающихся устойчивый интерес к безопасности и здоровью обучающихся как участников дорожного движения. - использовать материально-технический потенциал ОУ и другие возможности для обучения и воспитания грамотных участников дорожного движения.
Важнейшие индикаторы и показатели, позволяющие оценить ход реализации программы	<ul style="list-style-type: none"> – количество нарушений, совершенных обучающимися города Сарапула – количество повторных случаев совершения нарушений, совершенных обучающимися города Сарапула – 100% успеваемость, при качестве знаний не менее 70%.
Сроки реализации программы	2021-2025 годы
Ожидаемые конечные результаты реализации программы	<ul style="list-style-type: none"> – выпускник, владеющий основами личной безопасности, знающий ПДД – психологически и физически готовый к любой ситуации на дороге и улице; – уменьшение количества нарушений ПДД, совершаемых обучающимися г. Сарапула – создание системы классных часов по профилактике детского дорожно-транспортного травматизма обучающихся г. Сарапула
Разработчики программы	Муханова Светлана Владиславовна, заместитель директора по воспитательной работе ГКОУ УР «СОШ№5 с ОБЗ» г. Сарапула

ПОЯСНИТЕЛЬНАЯ ЗАПИСКА.

Безопасность дорожного движения является одной из важных социально-экономических и демографических задач в Удмуртской Республике. Аварийность на автомобильном транспорте наносит огромный материальный и моральный ущерб, как обществу в целом, так и отдельным гражданам. Дорожно-транспортный травматизм приводит к исключению из сферы производства людей трудоспособного возраста.

На автомобильных дорогах Удмуртской Республики в 2020 году зарегистрировано 1913 дорожно-транспортных происшествий, подлежащих включению в государственную статистическую отчетность, в которых 154 человека погибло, 2445 участников дорожного движения получили ранения различной степени тяжести. Гибнут или становятся инвалидами дети.

По предварительным данным ГУОБДД МВД России, за 9 месяцев 2021 г. зарегистрировано 12 236 дорожно-транспортных происшествий (далее – ДТП) с участием несовершеннолетних, в которых 422 ребенка погибли (рост составил 7,4%) и 13 375 получили травмы различной степени тяжести. Особую тревогу вызывает рост ДТП по следующим категориям. Так, при управлении мопедами и приравненными к ним транспортными средствами зарегистрировано 361 ДТП (рост составил 3,1%), в которых погибли 13 детей (рост составил 85,7%), 353 получили травмы (рост составил 2,9%). В ДТП, где дети являлись водителями мототранспорта, в 652 ДТП (снижение на 1,7%) погиб 21 ребенок (рост составил 40%), травмы получили 635 детей (снижение на 2,3%). В темное время суток в ДТП погибли 27 несовершеннолетних, из них 24 ребенка были без световозвращающих элементов.

Обеспечение безопасности дорожного движения является составной частью задач обеспечения личной безопасности, решения демографических, социальных и экономических проблем, повышения качества жизни и содействия региональному развитию.

Образовательная организация является основным звеном образовательной деятельности, где обучающиеся могут и должны получить необходимые знания, умения, навыки безопасного и право послушного поведения на улицах, дорогах и в транспорте. А охрана здоровья и жизни детей предполагает организацию обучения Правилам дорожного движения, основам безопасности жизнедеятельности таким образом, чтобы у каждого педагога, родителя обучающегося сформировалась жизненно важная потребность не только в изучении, но и соблюдении Правил дорожного движения. Главной целью педагогов является – формирование у обучающихся устойчивых навыков безопасного поведения на улице города.

Средством формирования устойчивых навыков безопасного поведения на улицах и дорогах является внеклассная работа. Поэтому была разработана Программа по формированию у обучающихся навыков безопасного поведения на улицах и дорогах.

Программа рассчитана на обучающихся 5-11 классов. В рамках классных часов для каждой параллели четко определено необходимое количество часов на изучение раздела ПДД.

Она содержит необходимые сведения по Правилам дорожного движения в объеме 14 часов (10 часов теоретического материала, 4 часа – контрольные срезы знаний) для

обучающихся 5-8 классов; 10 часов (8 часов теоретического материала, 2 часа контрольные срезы знаний) для обучающихся 9-11 классов.

При построении программы по изучению ПДД следует иметь в виду три аспекта взаимодействия ребенка с транспортной системой города:

- ребенок – пешеход;
- ребенок – пассажир городского транспорта;
- ребенок – водитель детских транспортных средств.

Необходимо отметить еще один исключительно важный источник накопления знаний, который должен активно использовать учитель, - осмысление обучающимися личного опыта, осознание совершенных ими действий, поступков.

Контроль знаний обучающихся в 5-8 классах проводится 1 раз в учебную четверть, 9-11 класс – 1 раз в полугодие.

Как правило, занятия по обучению Правилам дорожного движения проводятся классными руководителями и контролируются администрацией в образовательной организации.

Для проведения занятий, отдельных бесед, экскурсий и т.п. классный руководитель может привлекать преподавателя ОБЖ, работников дорожной полиции, водителей транспортных средств.

В процессе образовательной деятельности демонстрируются видеофильмы, слайд-шоу, организуются конкурсы, викторины, соревнования по безопасности движения пешеходов и велосипедистов и т.п., которые должны способствовать воспитанию у обучающихся сознательного поведения на улицах и дорогах, неукоснительного выполнения правил дорожного движения.

Таким образом, формирование и развитие умений и навыков безопасного поведения, превращение их в устойчивые привычки является достаточно сложным, длительным процессом, требующим специальных упражнений и применения ряда дидактических методов и приемов, данная программа помогает решить нам эту задачу.

ЦЕЛЬ ПРОГРАММЫ:

Совершенствование условий для формирования у обучающихся устойчивых навыков безопасного поведения на улицах и дорогах.

ЗАДАЧИ:

1. Сформировать у обучающихся устойчивые навыки соблюдения и выполнения Правил дорожного движения.
2. Отслеживать результативность работы всех участников образовательного учреждения с помощью системы мониторинговой деятельности администрации школы.
3. Применять современные формы и методы обучения и воспитания детей, инновационные технологии, направленные на предупреждение несчастных случаев на улицах и во дворах.
4. Поддерживать у родителей обучающихся устойчивый интерес к безопасности и здоровью детей как участников дорожного движения.
5. Использовать материально – технический потенциал школы и другие возможности для обучения и воспитания грамотных участников дорожного движения.

Программа базируется на системном подходе к решению проблемы профилактики дорожно-транспортного травматизма всех субъектов образовательного процесса.

НОРМАТИВНО - ПРАВОВОЕ ОБЕСПЕЧЕНИЕ ПРОГРАММЫ:

1. Конституция РФ.
2. Конституция УР.
3. Федеральный закон N 273-ФЗ "Об образовании в Российской Федерации"
4. Конвенция «О правах ребенка».
5. Стратегия безопасности дорожного движения в Российской Федерации на 2018 - 2024 годы.
6. Подпрограмма «Повышение безопасности дорожного движения" на 2014 - 2025 годы Государственной программы Удмуртской Республики "Развитие транспортной системы Удмуртской Республики"
6. Правила дорожного движения Российской Федерации (с изменениями и дополнениями на 05 мая 2021года)
7. Устав образовательного учреждения.
8. Положение о волонтерском отряде юных инспекторов движения.
9. Федеральный государственный образовательный стандарт.
10. Учебный план школы.
11. Учебные программы.
12. Планы воспитательной работы.

УПРАВЛЕНЧЕСКАЯ ДЕЯТЕЛЬНОСТЬ ПО КАДРОВОМУ ОБЕСПЕЧЕНИЮ:

1. Анализ кадрового обеспечения.
2. Выявление и поощрение педагогов, успешно внедряющих программу.
3. Повышение квалификации педагогических кадров.
4. Привлечение специалистов ГИБДД города.

УПРАВЛЕНЧЕСКАЯ ДЕЯТЕЛЬНОСТЬ ПО ИНФОРМАЦИОННОМУ ОБЕСПЕЧЕНИЮ:

2. Создание банка данных:
 - разработок уроков;
 - лекций и бесед для родителей;
 - бесед для обучающихся;
 - видео и аудиоматериалы.
3. Информирование участников образовательного процесса о федеральных, региональных документах.
4. Сбор текущей информации:
 - о результатах тестов, срезов знаний;
 - о посещениях уроков, занятий, внеклассных мероприятий.
5. Сбор аналитической информации:
 - о ходе работы по программе;
 - о результатах выполнения программы.
6. Функционирование проблемных семинаров, практикумов.
7. Консультационные совещания.
8. Проведение контрольных срезов, тестов.
9. Контроль за проведением уроков ОБЖ, внеклассных мероприятий.

10. Проверка документации учителей – предметников, классных руководителей.
11. Организация встреч с родителями (консультации, лекции, собрания).
12. Взаимодействие со специалистами ГИБДД и другими общественными организациями.
13. Систематическое оформление информационного стенда.

Функциональное обеспечение создания реализации программы.

1. Функции администрации школы в реализации программы:

- Общее руководство разработкой и реализацией программы;
- Обеспечение реализации программы: организация, координация, контроль;
- Организация работы классных руководителей по программе и ее контроль.

2. Функции классного руководителя в реализации программы:

- Проведение классных часов по профилактике ДДТТ;
- Организация и проведение профилактической работы с родителями;
- Организация и проведение внеклассных мероприятий в рамках программы.

Прогнозируемый результат:

- выпускник, владеющий основами личной безопасности, знающий правила дорожного движения, психологически и физически готовый к любой ситуации на дороге и улице;
- уровень усвоения программного материала учащихся должен быть не менее 70%.

УЧЕБНЫЙ ПЛАН

№ п.п.	Год обучения	Всего часов	Теоретически	Итоги и контроль
1	Пятый год	14	10	4
2	Шестой год	14	10	4
3	Седьмой год	14	10	4
4	Восьмой год	14	10	4
5	Девятый год	10	8	2
6	Десятый год	10	8	2
7	Одиннадцатый год	10	8	2

Циклограмма проведения срезов знаний обучающихся 5-8 классов по изучению ПДД

Срок	5 кл.	6 кл.	7 кл.	8 кл.
Сентябрь				
Октябрь			4 неделя	
Срок		9 класс	10 класс	11 класс
Сентябрь				
Октябрь			4 неделя	
Октябрь				
Январь				
Ноябрь				
Февраль				
Декабрь		4 неделя		
Март			4 неделя	
Январь				
Апрель				
Февраль			4 неделя	
Май				
Март				
Апрель				
Май		4 неделя		

**Циклограмма
проведения срезов знаний обучающихся 9-11 классов по изучению ПДД**

Перечень знаний и умений, которыми должны владеть обучающиеся 5 классов по правилам и безопасному поведению на дорогах.

Обучающиеся должны знать:

- Где в городе находятся улицы с наиболее интенсивным движением транспорта и пешеходов.
- Предназначение и задачи ГИБДД
- Что такое дорожно-транспортное происшествие. Виды ДТП. Причины и последствия ДТП.
- Дорога – зона повышенной опасности. Что такое дорога. Почему дорога опасна. Дорога школьника из дома в школу и обратно. Дорога школьника к маршрутному транспорту.
- Назначение дорожной разметки.
- Группы дорожных знаков. Назначение дорожных знаков. Места их установки.
- Некоторые краткие сведения и технические характеристики транспортных средств. Основные сведения о требованиях безопасности, предъявляемых к транспортным средствам.
- Что такое чрезвычайная ситуация на транспорте. Автомобиль и другие наземные транспортные средства. Метро. Железнодорожный транспорт. Водный транспорт.
- Где можно кататься на роликах, скейтах и других самокатных средствах, а также на санях, лыжах, коньках и т.п. Требования безопасности при катании на всех видах указанных самокатных средствах. Требования к экипировке катающихся и к техническому состоянию и оснастке средств катания.
- Требования безопасности и правила движения для велосипедистов. Требования безопасности к экипировке велосипедиста и к дополнительной оснастке велосипеда.
- Об ответственности за нарушение ПДД.
- Правила оказания первой медицинской помощи.

Обучающиеся должны уметь:

- Грамотно (с учетом требований безопасности) составлять маршрут «дом – школа – дом».
- Применять приемы самосохранения при возможном попадании в ДТП и ЧС в качестве пассажиров транспортных средств.
- Вызывать государственные службы безопасности и спасения.
- Ориентироваться в дорожных ситуациях (распознавать опасности и принимать адекватные решения).
- Соблюдать требования Правил безопасности на остановках маршрутного транспорта, при посадке и высадке из него.
- Управлять велосипедом с соблюдением Правил и требований безопасности движения.
- Применять приемы оказания первой (доврачебной) медицинской помощи.

Организация и содержание учебно-воспитательного процесса с обучающимися

5 класса

Тематический план

№ п/п	Тема	Содержание	Кол-во часов
1.	Вводная часть	Для чего нужно знать и выполнять ПДД. Предназначение и задачи, решаемые ГИБДД	1
2.	Мы – пешеходы	Опасные места на маршруте учащихся в школу. Основные обязанности пешеходов согласно Правилам дорожного движения. Безопасное поведение на улицах. (ПДД – 2021., стр. 33)	1
3.	Дорожно-транспортные происшествия с участием пешеходов	Основные опасные ситуации, которые могут возникнуть на дорогах и во дворах. Права, обязанности и ответственность пешеходов по соблюдению ПДД. Понятие «первая помощь».	1
4.	Контрольное занятие	Тест №1	1
5.	Группы дорожных знаков. Места их установки.	Восемь групп дорожных знаков. Места установки дорожных знаков. (ПДД – 2021., стр. 110)	1
6.	Пешеходные переходы. Первая помощь при кровотечении.	Пешеходные переходы и места остановок маршрутных транспортных средств. (ПДД -2021., стр. 88) Кровоостанавливающий жгут.	1
7.	Контрольное занятие	Тест №2	1
8.	Автомобиль и другие транспортные средства. Участники дорожного движения.	Краткая характеристика видов современного транспорта: автомобильный транспорт, метро, железнодорожный и водный транспорт. Оборудование автотранспорта специальными	1

		сигналами, их значение и порядок применения. (ПДД – 2021., стр. 9)	
9.	Правила пассажиров в общественном транспорте. Первая помощь при ожогах.	Основные правила безопасного поведения при пользовании общественным транспортом. Опасности, подстерегающие пассажира при посадке и высадке из транспорта, в процессе передвижения и в аварийных ситуациях.(ПДД – 2021., стр. 36) Ожог пламенем, кипятком или паром.	1
10.	Влияние погодных условий на безопасность дорожного движения.	Короткий световой день. Возможно яркое слепящее солнце. Колебания температуры. Заморозки. Оттепели. Дождь, снегопад, туман. Какие дополнительные сложности необходимо учитывать в дождливую погоду.(ПДД – 2021., стр. 97)	1
11.	Контрольное занятие	Тест №3	1
12.	Правила передвижения на велосипеде, роликах, скутере. Движение через железнодорожные пути.	Осмотр велосипеда перед выездом. Экипировка велосипеда. Места для движения на велосипеде. Возрастной ценз на право управления велосипедами при движении по дорогам. ПДД – 2021., стр. 108) О правах и обязанностях водителей мототранспорта, основные правила езды и меры безопасности езды на роликах, скутере. Закрытый обзор, испуг, ошибочный прогноз, неожиданный выход на проезжую часть. (ПДД – 2021., стр. 90)	1
13.	Первая доврачебная помощь.	Основные симптомы ушиба.	1
14.	Итоговое занятие	Тест №4	1
		Итого часов:	14

Контрольно-измерительные материалы

5 класс

Тест №1

№ п. п.	Вопросы	Баллы
1.	Инструкция: самостоятельно дополните определение, используя предложенные варианты. Пешеход – это лицо, находящееся вне транспортного средства на дороге, либо на _____ и не производящее работу на ней. А. Тротуаре или обочине. Б. Пешеходной или велопешеходной дорожке. В. Проезжей части дороги.	2

<p>2.</p>	<p>Инструкция: подберите к каждому дорожному знаку, изображенному ниже, правильное место установки. В левом столбике изображены дорожные знаки, а в правом изображены места их установки. Сопоставьте их между собой. А. 1-А, 2-Б, 3-В. Б. 1-Б, 2-А, 3-В. В. 1-В, 2-Б, 3-А.</p> <table border="1" data-bbox="730 282 1321 981"> <tr> <td data-bbox="730 282 995 533">  1 </td> <td data-bbox="995 282 1321 533">  А </td> </tr> <tr> <td data-bbox="730 533 995 752">  2 </td> <td data-bbox="995 533 1321 752">  Б </td> </tr> <tr> <td data-bbox="730 752 995 981">  3 </td> <td data-bbox="995 752 1321 981">  В </td> </tr> </table>	 1	 А	 2	 Б	 3	 В	<p>2</p>
 1	 А							
 2	 Б							
 3	 В							
<p>3.</p>	<p>Инструкция: определите, какое утверждение верно. А. Знак «Пешеходная зона» определяет территорию, предназначенную для движения пешеходов. В зоне действия этого знака запрещено движение всем транспортным средствам. Б. Знак «Пешеходная зона» определяет территорию, предназначенную для движения пешеходов. В зоне действия этого знака разрешено движение велосипедистам и водителям мопедов.</p>	<p>2</p>						
<p>4.</p>	<p>Инструкция: посмотрите на картинку, проанализируйте ситуацию. Выберите правильный ответ. Боковое — зрение отвечает за возможность ориентироваться в пространстве и позволяет вовремя заметить опасность со стороны. Перед переходом проезжей части дороги Дима задумался, нужно ему снять капюшон или нет. Помогите Диме принять верное решение. А. Капюшон можно не снимать. Б. Капюшон нужно обязательно снять. В. Наличие или отсутствие капюшона не имеет значения.</p> 	<p>2</p>						
<p>5.</p>	<p>Как должен поступить пешеход в этой ситуации? А. Пройти перед автомобилем, убедившись, что он остановился и уступает Вам дорогу. Б. Пройти первым. В. Уступить дорогу автомобилю. Г. Показать белый флаг и пройти первым.</p> 	<p>2</p>						
<p>6.</p>	<p>Какие «бытовые» привычки опасны на дороге?</p>							

	<p>А. Болтать во время движения.</p> <p>Б. Внезапно выбегать из-за кустов, из-за углов дома или из-за других препятствий.</p> <p>В. Оглядываться на оклик товарища.</p> <p>Г. Все вышеперечисленные привычки - не для дороги.</p>	2
7.	<p>В сумерки или в темное время безопаснее, если ты одет...</p> <p>А. В темную одежду.</p> <p>Б. В светлую одежду.</p> <p>В. В одежду со свето возвращающими вставками.</p>	2
8.	<p>Как должны обозначаться колонны людей при движении по дороге днем?</p> <p>А. Белыми флажками спереди и сзади.</p> <p>Б. Красными флажками только сзади.</p> <p>В. Красными флажками спереди и сзади.</p>	2
9.	<p>Кто может оказывать первую помощь пострадавшему ребенку?</p> <p>А. Только медицинский работник.</p> <p>Б. Любой человек, который оказался рядом с пострадавшим ребенком.</p> <p>В. любой человек, который оказался рядом с пострадавшим ребенком, при наличии специальной подготовки и (или) навыков.</p>	2
10.	<p>Как ты будешь переходить дорогу, если опаздываешь?</p> <p>А. Шагом.</p> <p>Б. Бегом.</p> <p>В. Шагом, предварительно приостановившись для наблюдения.</p> <p>Г. Вприпрыжку.</p>	2

5 класс
Тест №2

№ п. п.	Вопросы	Баллы
1.	<p>Инструкция: выберите верный вариант ответа (А, Б или В), в котором указана правильная последовательность действий.</p> <p>Установите правильную последовательность действий перехода проезжей части дороги по нерегулируемому пешеходному переходу?</p> <p>1. Остановиться рядом с дорожной разметкой, обозначающей пешеходный переход.</p> <p>2. Убедиться, что водители транспортных средств вас заметили, остановились и готовы уступить дорогу в движении.</p> <p>3. Посмотреть налево, направо и опять налево.</p> <p>4. Переходить проезжую часть дороги внимательно смотря по сторонам и контролируя ситуацию.</p> <p>5. Начинать переход только на безопасном расстоянии от движущихся транспортных средств.</p> <p>А. 1, 2, 3, 4, 5.</p> <p>Б. 1, 3, 2, 5, 4.</p> <p>В. 2, 1, 3, 5, 4.</p>	2
2.	<p>Инструкция: определите, какое утверждение верно.</p> <p>А. Маршрутные транспортные средства следует ожидать на приподнятых над проезжей частью посадочных площадках.</p> <p>Б. Маршрутные транспортные средства следует ожидать напротив пешеходного перехода.</p>	2
3.	<p>Инструкция: определите, какое утверждение верно.</p>	2

	<p>А. При повороте налево водитель транспортного средства обязан уступить дорогу пешеходам и велосипедистам, пересекающим проезжую часть дороги, на которую он поворачивает.</p> <p>Б. При пересечении проезжей части дороги пешеходы, и велосипедисты обязаны уступить дорогу всем транспортным средствам, поворачивающим налево.</p>		
4.	<p>Инструкция: посмотрите на картинку, проанализируйте ситуацию. Выберите правильный ответ.</p> <p>Находясь у бабушки в деревне, Марк решил пойти на пикник. Так как в деревне не было тротуаров, Марк пошёл по обочине. Однако, выйдя за пределы деревни, Марк задумался о том, как правильно ему идти дальше. Помогите Марку определить, как он должен двигаться вне населенного пункта в данной ситуации?</p> <p>А. При движении вне населённого пункта Марк должен идти по ходу движения транспортных средств.</p> <p>Б. При движении вне населённого пункта Марк должен идти навстречу движению транспортных средств.</p> <p>В. Вне населённого пункта движение для пешеходов запрещено.</p>		2
5.	<p>В каком из этих мест, пешеходу разрешено пересекать проезжую часть?</p>	 <p style="text-align: center;">А Б ВГ Д</p>	2
6.	<p>Какой знак запрещает движение для пешеходов?</p>	<p style="text-align: center;">А Б В</p> 	2
7.	<p>Какой знак называется «Пешеходная дорожка»?</p>	 <p style="text-align: center;">А Б В</p>	2
8.	<p>Какой из этих знаков является предупреждающим?</p>	 <p style="text-align: center;">А Б В</p>	2
9.	<p>Куда накладывает кровостанавливающий жгут на конечность при кровотечении?</p> <p>А. Непосредственно на рану.</p> <p>Б. Ниже раны на 4-6 см.</p> <p>В. Выше раны на 4-6 см.</p>		2


10.	<p>Как правильно обходить трамвай?</p> <p>А. Только спереди трамвая. Б. Только сзади трамвая. В. С любой стороны трамвая. Г. Подождать, когда транспорт отъедет от остановки, тогда дорога будет хорошо видна в обе стороны. Д. Куда пойдет большое количество человек, вышедших из трамвая.</p>	2
-----	---	---



**5 класс
Тест №3**

№ п. п.	Вопросы	Баллы
1.	<p>Инструкция: выберите правильный вариант ответа.</p> <p>Движение велосипедистов в возрасте от ___ до 14 лет должно осуществляться только по _____, пешеходным, велосипедным и _____ дорожкам, а также в пределах _____ зон.</p> <p>А. 5, обочинам, асфальтированным, жилых. Б. 6, правому краю проезжей части дороги, велопешеходным, игровых. В. 7, тротуарам, велопешеходным, пешеходных.</p>	2
2.	<p>Инструкция: определите, какое утверждение верно.</p> <p>А. При отсутствии тротуаров, пешеходных дорожек, велопешеходных дорожек или обочин пешеход должен идти только по направлению движения транспортных средств по правой стороне не более чем по четыре человека в ряд.</p> <p>Б. При отсутствии тротуаров, пешеходных дорожек, велопешеходных дорожек или обочин пешеход должен идти навстречу движению транспортных средств по краю проезжей части (на дорогах с разделительной полосой – по внешнему краю проезжей части).</p>	2
3.	<p>Инструкция: определите, какое утверждение верно.</p> <p>А. Производить высадку из транспортного средства пассажир может как со стороны тротуара(обочины), так и со стороны проезжей части дороги при любых условиях.</p> <p>Б. Производить высадку из транспортного средства пассажир должен со стороны тротуара (обочины), а со стороны проезжей части дороги только при условии, что высадка со стороны тротуара (обочины) невозможна.</p>	2
4.	<p>Инструкция: посмотрите на картинку, проанализируйте ситуацию. Выберите правильный ответ.</p> <p>Когда Маша возвращалась домой после школы, она заметила, что на одном из перекрёстков производят замену светофоров и пока их нет, на перекрёсток поставили регулировщика. Помогите Маше определить, как она должна действовать при данном сигнале регулировщика?</p> <p>А. Маша может перейти проезжую часть дороги за спиной регулировщика. Б. Маше нужно дождаться другого сигнала регулировщика и перейти проезжую часть дороги.</p>	2



	В. Маша должна дождаться, когда регулировщик подаст сигнал свистком и жестом, покажет, что переход разрешен.	
5.	Какие лица Правилами отнесены к «участникам дорожного движения»? А. Пешеходы. Б. Дорожные рабочие, водители, пассажиры. В. Водители, пешеходы, пассажиры. Г. Все перечисленные лица.	2
6.	Как вести себя при переходе проезжей части в ненастную погоду? А. Воздержаться от перехода до окончания дождя или снегопада. Б. Дождаться зеленого сигнала светофора и, не обращая внимания на погоду, перейти проезжую часть. В. Быть особенно внимательным, при переходе на зеленый сигнал светофора, если на улице сыро или скользко, машина не может резко остановиться, даже если водитель сразу нажмет на тормоз.	2
7.	Какой знак обозначает остановку троллейбуса?	2
	 А Б В	
8.	Водитель и пассажир транспортного средства, оборудованного ремнями безопасности, обязаны быть пристегнуты: А. Только при движении по горным дорогам. Б. Только при движении вне населенных пунктов. В. Во всех случаях при движении транспортного средства. Г. Только при движении по автомагистралям.	2
9.	Что делать, если ребенок получил ожог пламенем, кипятком или паром? А. Вызвать скорую медицинскую помощь, до ее приезда наблюдать за ребенком и одновременно с этим охлаждать место ожога холодной проточной водой не менее 20 минут. Б. Вызвать скорую медицинскую помощь, до ее приезда наблюдать за ребенком и одновременно с этим приложить холодный предмет к месту ожога, предварительно обернув его куском ткани. В. Вызвать скорую медицинскую помощь, до ее приезда наблюдать за ребенком.	2
10.	Какие транспортные средства по Правилам относятся к маршрутным транспортным средствам? А. Любые транспортные средства, перевозящие пассажиров. Б. Автобусы, троллейбусы и трамваи, предназначенные для перевозки людей и движущиеся по установленному маршруту с обозначенными местами остановок. В. Все автобусы.	2

Тест №4

№ п. п.	Вопросы	Баллы
1.	<p>Инструкция: дополните предложение, выберите правильный ответ. Пассажиры должны быть пристёгнуты ремнями безопасности...: А. В легковых автомобилях, оборудованных ремнями безопасности. Б. Во всех автомобилях, оборудованных ремнями безопасности. В. Во всех транспортных средствах, оборудованных ремнями безопасности.</p>	2
2.	<p>Инструкция: определите, какое утверждение верно. А. Транспортному средству труднее затормозить, когда дождь только начался. Б. Транспортному средству труднее остановиться/снизить скорость тогда, когда дождь идет продолжительное время.</p>	2
3.	<p>Инструкция: посмотрите на картинку, проанализируйте ситуацию. Выберите правильный ответ. Кто из участников дорожного движения нарушает правила дорожного движения. А. Девочка Б. Водитель В. Девочка и водитель</p>	2
4.	<p>Как следует поступить велосипедисту, если перед перекрестком установлен этот знак? А. Если нет машин, проехать перекресток без остановки. Б. При проезде перекрестка быть особенно внимательным. В. Остановиться у стоп - линии, а если ее нет – перед краем пересекаемой проезжей части, и уступить дорогу транспортным средствам, движущимся по пересекаемой дороге.</p>	2
5.	<p>Для движения в темное время суток велосипед должен быть оборудован: А. Фарой. Б. Свето возвращающими элементами. В. Использование внешних световых приборов на велосипеде не обязательно.</p>	2
6.	<p>Велосипедист обязан проверить техническое состояние велосипеда: А. Перед каждой поездкой. Б. 1 раз в месяц. В. После поездки. Г. Перед началом летнего сезона.</p>	2
7.	<p>Что обозначает этот знак? А. Конец пешеходной и велосипедной дорожки с разделением движения. Б. Осторожно! Велосипедная зона. В. Пункт проката велосипедов.</p>	2
8.	<p>Что означают следующие знаки? А. Железнодорожный переезд со шлагбаумом. Б. Приближение к железнодорожному переезду.</p>	2
9.	<p>Основные симптомы ушиба: А. Боль в области ушиба, припухлость (отек), кровоподтек (синяк), нарушение функции ушибленного органа. Б. Боль в конечности, резкая деформация области сустава, отсутствие</p>	2



	активных и невозможность пассивных движений, изменение длины конечности.	
10.	Остановка – это: А. Преднамеренное прекращение движения транспортного средства на время до 5 минут, а также на большее, если это необходимо для посадки или высадки пассажиров либо загрузки или разгрузки транспортного средства. Б. Преднамеренное прекращение движения транспортного средства на время более 5 минут по причинам, не связанным с посадкой или высадкой пассажиров либо загрузкой или разгрузкой транспортного средства.	2

Перечень знаний и умений, которыми должны владеть обучающиеся 6 классов по правилам и безопасному поведению на дорогах.

Обучающиеся должны знать:

- Что такое дорожно-транспортное происшествие. Виды ДТП. Причины и последствия ДТП.
- Закон Российской Федерации «О безопасности дорожного движения». Закон – основа безопасности. Правила дорожного движения – нормативный документ и основа дорожной грамоты.
- Основные пути обеспечения дорожной безопасности. Организация и регулирование дорожного движения.
- Требования к водителям и пешеходам.
- Решать ситуационные и другие задачи по ПДД с применением макетов и без них.
- Ответственность пешеходов за нарушение ПДД.
- Правила оказания первой (доврачебной) помощи.

Обучающиеся должны уметь:

- Применять приемы самосохранения при возможном попадании в ДТП и ЧС в качестве пассажиров транспортных средств.
- Ориентироваться в дорожных ситуациях (распознавать опасности и принимать адекватные решения).
- Управлять велосипедом с соблюдением Правил и требований безопасности движения.
- Применять приемы оказания первой (доврачебной) помощи.

Организация и содержание учебно-воспитательного процесса с обучающимися 6 класса











Тематический план

№ п/п	Тема	Содержание	Кол-во часов
1.	Правила дорожного движения (повторение).	Повторение правил движения пешеходов по улицам и дорогам, пользования маршрутными транспортными средствами (автобус, троллейбус, трамвай, маршрутное такси). (ПДД – 2021., стр. 33, стр. 88)	1
2.	Опасность на дороге.	Виды ДТП. Факторы, влияющие на численность	1

	Как ее избежать	ДТП (дисциплина участников дорожного движения, время суток, дни недели). Привычки как фактор ДТП. (ПДД – 2021., стр. 33, стр. 36)	
3.	Навыки безопасного поведения на дороге. Первая доврачебная помощь.	Предвидение опасности. Дорожная безопасность для детей: дорожно - транспортная ситуация в Удмуртской Республике и городе. Виды ожогов.	1
4.	Контрольное занятие	Тест №1	1
5.	Дорожная разметка и ее характеристики (повторение)	Виды разметки. Значение разметки в общей организации дорожного движения, классификация разметки.(ПДД – 2021., стр. 144)	1
6.	Дорожные знаки. Первая доврачебная помощь.	Виды знаков. Повторение.(ПДД – 2021., стр. 111) Первая доврачебная помощь при открытом переломе конечностей.	1
7.	Контрольное занятие	Тест №2	1
8.	Нерегулируемые перекрестки. Первая доврачебная помощь.	Что такое перекресток. Движение транспортных средств на перекрестке. Поворот транспортных средств. Предупредительные сигналы, подаваемые водителями. Обозначения нерегулируемого перекрестка. Правила перехода дороги на нерегулируемом перекрестке. (ПДД – 2021., стр. 79) Определение пульса пострадавшего в ДТП.	1
9.	Технические требования, предъявляемые к велосипеду.	Осмотр велосипеда перед выездом. Подбор велосипеда по росту. Неисправности велосипеда и их устранение.(ПДД – 2021., стр. 22)	1
10.	Дополнительные требования к движению велосипедистов.	Правила маневрирования, проезда нерегулируемых перекрестков. Имеет ли право велосипедист развернуться, не слезая с велосипеда, на дороге с двумя полосами движения в каждом направлении? Всегда ли велосипедист должен подавать предупредительный сигнал об изменении направления движения? Правила перевозки груза (ПДД – 2021., стр. 108)	1
11.	Контрольное занятие	Тест №3	1
12.	Проезд железнодорожных переездов. Дорожные условия и безопасность движения.	Железнодорожные переезды. Разновидности железнодорожных переездов. Правила остановки транспортных средств перед переездом. Обязанности водителя при вынужденной остановке на переезде. Запрещения, действующие на железнодорожном переезде. (ПДД – 2021., стр.90)	1
13.	Факторы, которые могут привести к падению. Первая доврачебная помощь.	Влияние дорожных условий на безопасность движения. Дороги в населенных пунктах. Дороги в сельской местности. Автомагистрали. Особенности горных дорог. Влияние дорожных условий на движение автомобиля. Особенности движения в тумане, по горным дорогам. Опасные участки автомобильных дорог: сужение проезжей части, свежеложенное покрытие дорога, битумные и гравийные покрытия, затяжной спуск, подъезды к	1

		мостам, железнодорожным переездам; другие опасные участки. (Правила дорожного движения 2021., стр. 143) Роль и значение доврачебной помощи. Медицинская аптечка. Состав и назначение. Виды ран. Первая помощь при ранении.	
14.	Итоговое занятие	Тест №4	1
		Итого часов:	14

**6 класс
Тест №1**





№ п. п.	Вопросы	Баллы									
1.	<p>Инструкция: подберите к каждому дорожному знаку, изображенному ниже, правильное название группы дорожных знаков, к которой он относится.</p> <p>В левом столбике изображены дорожные знаки, а в правом написаны названия групп знаков дорожного движения. Сопоставьте их между собой.</p> <p>А. 1-А, 2-Б, 3-В. Б. 1-Б, 2-В, 3-А. В. 1-В, 2-А, 3-Б.</p> <table border="1" style="margin-left: auto; margin-right: auto;"> <tr> <td style="text-align: center;">1</td> <td style="text-align: center;"></td> <td style="text-align: center;">А. Предписывающие</td> </tr> <tr> <td style="text-align: center;">2</td> <td style="text-align: center;"></td> <td style="text-align: center;">Б. Особых предписаний</td> </tr> <tr> <td style="text-align: center;">3</td> <td style="text-align: center;"></td> <td style="text-align: center;">В. Информационные</td> </tr> </table>	1		А. Предписывающие	2		Б. Особых предписаний	3		В. Информационные	2
1		А. Предписывающие									
2		Б. Особых предписаний									
3		В. Информационные									
2.	<p>Инструкция: определите, какое утверждение верно.</p> <p>А. Велосипед относится к транспортным средствам. Б. Велосипед относится к механическим транспортным средствам.</p>	2									
3.	<p>Инструкция: определите, какое утверждение верно.</p> <p>А. Велосипедистам разрешено перевозить пассажиров, если это предусмотрено конструкцией транспортного средства. Б. Велосипедистам разрешено перевозить детей в возрасте до 7 лет без специально оборудованного места.</p>	2									
4.	<p>Инструкция: посмотрите на картинку, проанализируйте ситуацию. Выберите правильный ответ.</p> <p>Разрешено ли Вите передвигаться на электросамокате таким образом?</p> <p>А. Разрешено, но только в светлое время суток. Б. Разрешено, так как на Вите надет шлем. В. Запрещено.</p> <div style="text-align: right;">  </div>	2									
5.	<p>При поездке на сиденье автомобиля, оборудованного ремнями безопасности пассажир:</p> <p>А. Может не пристегиваться, если он находится на заднем сиденье. Б. Обязан пристегиваться во всех случаях. В. Должен пристегнуться только по требованию водителя.</p>	2									


6.	Ожидать трамвай следует... А. Стоя на тротуаре или посадочной площадке. Б. Стоя на проезжей части в одном метре от трамвайного пути.	2
7.	При приближении транспортных средств с включенным синим проблесковым маячком и специальным звуковым сигналом, находящиеся на проезжей части пешеходы... А. Должны остановиться. Б. Могут продолжать переход. В. Должны уступить дорогу этим транспортным средствам и незамедлительно освободить проезжую часть.	2
8.	Где следует переходить дорогу, если нет обозначенного пешеходного перехода? А. На перекрестках по линии тротуаров или обочин. Б. На участках без ограждений и разделительной полосы, если поблизости нет перекрестка и дорога просматривается в обе стороны. В. Во всех перечисленных случаях.	2
9.	Какие виды ожогов бывают? А. Термические и лучевые Б. Химические и электрические. В. Все вышеперечисленные.	2
10.	Что означает черная контурная стрелка, нанесенная на основной зеленый сигнал? А. Направление движения при включении красного или желтого сигнала. Б. Направление движения при включении зеленого сигнала. В. Запрещенные направления движения при включенном сигнале дополнительной секции.	2



**6 класс
Тест №2**

№ п. п.	Вопросы	Баллы
1.	Инструкция: самостоятельно дополните определение, используя предложенные варианты. Допускается движение велосипедистов в возрасте старше ___ по ___ краю проезжей части, при условии отсутствия _____ и велопешеходной дорожки, _____ для велосипедистов либо отсутствует возможность ___ по ним. А. 14, правому, велосипедной, полосы, двигаться. Б. 12, левому, пешеходной, дорожки, ехать. В. 14, правому, пешеходной, полосы, передвигаться.	2
2.	Велосипедистам водителям мопедов запрещается: А. Перевозить груз, который выступает более чем на 0,5 м по длине или ширине за габариты, или груз, мешающий управлению. Б. Перевозить пассажиров, если это не предусмотрено конструкцией транспортного средства. В. Перевозить детей до 7 лет при отсутствии специально оборудованных для них мест. Г. Поворачивать налево или разворачиваться на дорогах с трамвайным	2

	<p>движение мина дорогах, имеющих более одной полосы для движения в данном направлении (кроме случаев, когда из правой полосы разрешен поворот налево, и за исключением дорог, находящихся в велосипедных зонах).</p> <p>Д. Во всем перечисленном выше.</p>		
3.	<p>Инструкция: посмотрите на картинку, вспомните, что означает нанесённая разметка. Выберите правильный ответ.</p> <p>Представьте, что Вы едете на велосипеде по проезжей части дороги, на которой нанесена горизонтальная дорожная разметка. Что эта разметка обозначает?</p> <p>А. Велосипедная дорожка или полоса для велосипедистов. Б. Велосипедная дорожка или тротуар. В. Полоса для велосипедистов или мопедов.</p>		2
4.	<p>Какой из этих знаков обозначает место, где можно переходить дорогу?</p> <p>А. Знак, обозначенный номером 1. Б. Знак, обозначенный номером 2. В. Оба знака.</p>	 <p style="text-align: center;">1 2</p>	2
5.	<p>В каких направлениях разрешено движение?</p> <p>А. Налево. Б. Прямо В. Направо Г. В обратном направлении, прямо или направо.</p>		2
6.	<p>Этот дорожный знак предупреждает Вас:</p> <p>А. О приближении к пешеходному переходу, на котором возможно частое появление велосипедистов. Б. О приближении к пересечению с велосипедной дорожкой. В. О приближении к месту, где Вы должны уступить дорогу велосипедистам.</p>		2
7.	<p>Разрешается ли переходить дорогу по проезжей части, если в этом месте есть подземный пешеходный переход?</p> <p>А. Разрешается. Б. Не разрешается.</p>		2
8.	<p>Что означает знак «Пешеходная дорожка»?</p> <p>А. Указывает место перехода проезжей части. Б. Указывает выделенную полосу для движения пешеходов. В. Второе название дорожной разметки «Зебра»</p>		2
9.	<p>При открытом переломе конечностей, сопровождающимся артериальным кровотечением, оказание первой помощи начинается:</p> <p>А. С наложения импровизированной шины. Б. С наложения жгута выше раны на месте перелома.</p>		2

	В. С наложения давящей повязки.	
10.	<p>Выбери правильный ответ, что означает этот знак:</p> <p>А. Полоса проезжей части, предназначенная для движения на велосипедах и мопедах, отделенная от остальной проезжей части горизонтальной разметкой.</p> <p>Б. Элемент дороги, предназначенный для движения безрельсовых транспортных средств.</p>	
		2

**6 класс
Тест №3**


№ п. п.	Вопросы	Баллы
1.	<p>Инструкция: выберите правильный вариант ответа.</p> <p>Согласно правилам дорожного движения, пассажирам запрещается:</p> <p>А. Отвлекать водителя от управления транспортным средством во время его движения.</p> <p>Б. Отвлекать водителя от управления транспортным средством даже во время остановки.</p> <p>В. Отвлекать водителя от управления транспортным средством на эстакадах и в тоннелях.</p>	2
2.	<p>Инструкция: определите, какое утверждение верно.</p> <p>А. Подача сигнала поворота велосипедистом дает ему преимущество перед другими участниками движения.</p> <p>Б. Подача сигнала поворота велосипедистом не дает ему преимуществ перед другими участниками движения.</p>	2
3.	<p>Инструкция: посмотрите на картинку, проанализируйте ситуацию. Выберите правильный ответ.</p> <p>Должен ли водитель велосипеда подавать равный сигнал поворота?</p> <p>А. Перед поворотом водитель всегда обязан показывать сигналы поворота</p> <p>Б. Не обязательно, так как дорога меняет направление и совершение другого маневра невозможно.</p> <p>В. Не обязательно, так как другие транспортные средства отсутствуют.</p>	2
4.	<p>Инструкция: посмотрите на картинку, проанализируйте ситуацию. Выберите правильный ответ.</p> <p>В транспортном средстве едет Алексей Семён овичегодочка Катя, которой 10 лет. Нарушают ли участники ситуации правила дорожного движения в данной ситуации?</p> <p>А. Нарушают, в транспортном средстве отсутствуют ремни и подушки безопасности.</p> <p>Б. Нарушают, Катя должна быть пристёгнута и находиться в детском удерживающем устройстве.</p> <p>В. Правила дорожного движения соблюдены в полном объёме.</p>	2
5.	<p>Каким правилам подчиняется велосипедист, если он ведет велосипед руками?</p>	2

	А. Правилам для водителей. Б. Правилам для пешеходов.	
6.	Можно ли ездить на велосипеде по шоссе? А. Можно. Б. Нельзя. В. Можно, если велосипедист старше 14 лет.	2
7.	В каких случаях водители велосипедов и мопедов должны уступать дорогу транспортным средствам в местах пересечения велосипедной дорожки с дорогой? А. Во всех случаях на нерегулируемом пересечении вне перекрестков. Б. При приближении транспортного средства справа. В. Водитель велосипеда и мопеда имеет преимущество при движении по велосипедной дорожке.	2
8.	При спуске с крутого и затяжного уклона велосипедист должен: А. Постоянно притормаживать. Б. Снизить скорость перед началом спуска и затормозить в конце спуска. В. Затормозить в конце спуска.	2
9.	Как определить наличие пульса на сонной артерии пострадавшего? А. Три пальца руки располагают с левой стороны шеи под нижней челюстью Б. Три пальца руки располагают с правой или левой стороны шеи на уровне щитовидного хряща гортани (кадыка) и осторожно продвигают вглубь шеи между щитовидным хрящом и ближайшей к хрящу мышцей. В. Большой палец руки располагают на шее под подбородком с одной стороны гортани, а остальные пальцы – с другой стороны.	2
10.	Сигнал поворота велосипедист не подает: А. Перед перестроением. Б. Перед началом движения. В. Если сигнал введет в заблуждение других участников движения.	2

**6 класс
Тест №4**

№ п. п.	Вопросы	Баллы
1.	Инструкция: дополните предложение, выберите правильный ответ. Пешеход становится пассажиром тогда, когда...: А. Пешеход начинает входить в транспортное средство. Б. Пешеход уже полностью находится в транспортном средстве. В. Пешеход увидел приближающееся транспортное средство.	2
2.	Инструкция: дополните предложение, выберите правильный ответ. Согласно правилам дорожного движения, пассажиру запрещается...: А. Передвигаться по салону транспортного средства во время движения. Б. Открывать двери транспортного средства во время движения. В. Открывать окна транспортного средства во время движения.	2
3.	Инструкция: посмотрите на картинку, проанализируйте ситуацию. Выберите правильный ответ. Максим предложил Кате покататься на велосипеде. Катя, конечно, согласилась и стала пассажиром. Максиму уже 16 лет, а Кате всего 10, определите, может ли Макс имперевозить пассажира на своём велосипеде в данной ситуации?	2

	<p>А. Максим может перевозить пассажира на своём велосипеде, при наличии стаж вождения не менее 2 лет.</p> <p>Б. Максим может перевозить пассажира на своём велосипеде, если будет ехать по правому краю проезжей части.</p> <p>В. Максим запрещается перевозить пассажира на своём велосипеде.</p>		
4.	<p>Инструкция: посмотрите на картинку, проанализируйте ситуацию. Выберите правильный ответ.</p> <p>Сергей Дмитриевич с внучкой Машенькой выходит из автобуса на остановке общественного транспорта. Как правильно должна быть осуществлена высадка из автобуса в данной ситуации?</p> <p>А. Первым должен выйти ребенок, затем взрослый.</p> <p>Б. Первым должен выйти взрослый, затем ребенок.</p> <p>В. Они должны выйти одновременно.</p>		2
5.	<p>Как называется этот знак?</p> <p>А. Железнодорожный переезд со шлагбаумом.</p> <p>Б. Железнодорожный переезд без шлагбаума.</p> <p>В. Пешеходный переход.</p>		2
6.	<p>Действуют ли на ледовой переправе требования Правил дорожного движения?</p> <p>А. Да, действуют.</p> <p>Б. Нет, не действуют.</p>		2
7.	<p>На тротуаре ведутся ремонтные дороги. Как безопасно поступить в этой ситуации.</p> <p>А. Продолжить движение по краю проезжей части.</p> <p>Б. Заблаговременно перейти на противоположную сторону улицы и идти по тротуару.</p>		2
8.	<p>Какие дополнительные сложности необходимо учитывать в дождливую погоду?</p> <p>А. У транспортных средств увеличивается тормозной путь.</p> <p>Б. Ухудшается видимость.</p> <p>В. Пешеходу мешает видеть дорогу зонт или капюшон.</p> <p>Г. Водители могут объезжать лужи, меняя траекторию движения.</p> <p>Д. Все вышеперечисленное верно.</p>		2
9.	<p>Каким образом оказать первую помощь при ранении, полученном в результате ДТП?</p> <p>А. Промыть рану водой, удалить инородные тела, внедрившиеся в рану, приложить стерильную вату, закрепив ее бинтовой повязкой</p> <p>Б. Надеть медицинские перчатки, рану промыть спиртовым раствором йода, смазать лечебной мазью и заклеить сплошным лейкопластырем</p> <p>В. Надеть медицинские перчатки, рану не промывать, на рану наложить марлевую стерильную салфетку, закрепив ее лейкопластырем по краям или бинтовой повязкой.</p>		2

10.	Выбери правильный ответ. Как называется этот знак? А. Место отдыха. Б. Пункт распродажи елок. В. Зона лесного хозяйства. Г. Внимание! Вырубка леса.		2
-----	--	---	---

Перечень знаний и умений, которыми должны владеть обучающиеся 7 классов по правилам и безопасному поведению на дорогах.

Обучающиеся должны знать:

- Правила пользования транспортными средствами.
- Понятие терминов «остановка» и «стоянка», «интервал» и «дистанция».
- О влиянии состояния здоровья, лекарственных и наркотических средств, употребления алкоголя на безопасность движения.
- Содержание автомобильной аптечки первой медицинской помощи и назначение средств в нее входящих.
- Мопед и приравненные к нему транспортные средства. Возрастные требования к водителю мопеда. Требования безопасности при вождении мопеда.
- Сложные ситуации на загородной дороге и перекрестке:
- Определять начало движения ТС и их маневрирование. Расположение транспортных средств на проезжей части. Правила остановки и стоянки ТС. Порядок проезда перекрестков.
- Ответственность водителей мопеда за нарушение ПДД
- Правила оказания первой (доврачебной) помощи.

Обучающиеся должны уметь:

- Соблюдать требования Правил безопасности
- Применять приемы самосохранения при возможном попадании в ДТП и ЧС.
- Вызывать государственные службы безопасности и спасения.
- Ориентироваться в дорожных ситуациях (распознавать опасности и принимать адекватные решения).
- Применять приемы оказания первой (доврачебной) помощи.

Организация и содержание учебно-воспитательного процесса с обучающимися 7 класса
Тематический план

№ п/п	Тема	Содержание	Кол-во часов
1.	Дорожная разметка. Остановка и стоянка.	Дорожная разметка и ее характеристики. Виды разметки. (ПДД – 2021., стр.144). Остановка и стоянка транспортных средств (ПДД – 2021., стр.71)	1
2.	Проезд перекрестков. Первая доврачебная помощь при ДТП.	Пересечение проезжих частей или участка перекрестка. Ситуации ДТП на перекрестках. (ПДД – 2021., стр. 79)	1

		Извлечение из салона автомобиля пострадавшего.	
3.	Правила поведения детей при перевозках на грузовых и легковых автомобилях	Разрешается ли пассажирам по время движения отвлекать водителя маршрутного транспортного средства от управления? В каком случае разрешается посадка, и высадка пассажиров со стороны проезжей части? (ПДД-2021., стр. 103)	1
4.	Контрольное занятие	Тест №1	1
5.	Правила пешеходов, находящихся в населенных пунктах. Общие положения. Виды транспортных средств. Правила движения велосипедистов, мopedистов.	Использование световозвращающих элементов пешеходами вне населенных пунктов. Механические транспортные средства. (ПДД-2021., стр. 5) Экипировка велосипедиста. Подача сигнала указателями поворота или рукой. Правила перевозки пассажиров и груза на велосипедах, мотоциклах и мотороллерах. (ПДД-2021., стр. 48) Понятие тормозной путь.	1
6.	Правила перевозки людей. Первая медицинская (доврачебная) помощь.	Правила использования грузовых прицепов. Регулируемый пешеходный переход. (ПДД-2021., стр. 88) Помощь при термическом поверхностном ожоге.	1
7.	Контрольное занятие	Тест №2	1
8.	Дорожные знаки. Проезд железнодорожных переездов.	Знаки приоритета. Знак - главная дорога. Правила проезда велосипедистом железнодорожных переездов. Где разрешается пешеходам и велосипедистам пересекать железнодорожные пути? (ПДД-2021., стр.108)	1
9.	На загородных дорогах. Первая доврачебная помощь.	Сельский транспорт. Тракторы и прицепы к ним. Самоходные сельскохозяйственные машины. Гужевой транспорт. Прогон животных. Дополнительные требования к движению грузовых повозок и прогону животных. Как должна обозначаться колонна людей при движении по дороге в темное время суток? Где должны идти пешеходы вне населенного пункта по дороге с разделительной полосой, если по обочине идти невозможно? Как переходить дорогу вне населенного пункта? (ПДД-2021., стр.110) Аптечка автомобилиста. Первая помощь при отморожении.	1
10.	Контрольное занятие	Тест №3	1
11.	Дорожные знаки. Дорожная разметка.	Запрещающие дорожные знаки. (ПДД-2021., стр.117) Горизонтальная разметка. Назначение. Цвет и условия применения каждого вида горизонтальной разметки. Действия водителей в соответствии с требованиями горизонтальной разметки. (ПДД-2021., стр.144)	1


12.	Приоритет маршрутных транспортных средств. Скорость движения. Первая доврачебная помощь.	Правила движения велосипедистов на перекрестках. (ПДД-2021., стр.95) Правила движения вне населенных пунктах. Первая доврачебная помощь при черепно-мозговой травме.	1
13.	Первая доврачебная помощь. Ожоги.	Виды ожогов. Первая доврачебная помощь при поверхностных ожогах 1 и 2 степени.	1
14.	Итоговое занятие	Тест №4	1
		Итого часов:	14

7 класс

Тест №1



№ п. п.	Вопросы	Баллы
1.	Инструкция: выберите правильный вариант ответа. Пересекать проезжую часть дороги на перекрестках при отсутствии пешеходного перехода пешеходам. А. Разрешается, при отсутствии транспортных средств на расстоянии 10 метров от перекрестка. Б. Разрешается на перекрестках по линии тротуара или обочины. В. Запрещается.	2
2.	Инструкция: самостоятельно дополните определение, используя предложенные варианты. Понятие «Остановочный путь» транспортного средства подразумевает: Расстояние, пройденное _____ с момента _____ до полной остановки. А. Транспортным средством, срабатывания тормозного привода. Б. Пешеходом, нажатия водителем транспортного средства педали тормоза. В. Транспортным средством, обнаружения водителем опасности.	2
3.	Инструкция: посмотрите на картинку, проанализируйте ситуацию и определите, как должен поступить пешеход. Выберите правильный ответ. Кирилл собрался пересечь проезжую часть дороги, таким образом, как показывает желтая стрелка на рисунке. Определите, разрешено ли Кириллу пересечь проезжую часть дороги по такой траектории. А. Разрешено, если в зоне видимости нет перехода или перекрестка и дорога просматривается в обе стороны на достаточном расстоянии. Б. Разрешено, только в светлое время суток и дорога просматривается в обе стороны. В. Запрещается.	2
4.	Пассажир должен выходить из автомобиля: А. С любой стороны, если это безопасно. Б. Со стороны тротуара или обочины. В. С любой стороны с разрешения водителя. Г. Со стороны, где он находился во время движения.	2
5.	При переходе дороги по пешеходному переходу, обозначенному	2



	<p>знаками и разметкой, пешеход имеет право:</p> <p>А. Двигаться, не выходя за пределы разметки. Б. Двигаться в 1 – 2 метрах от разметки. В. Начинать переход от места расположения дорожного знака «Пешеходный переход»</p>	
6.	<p>Можно ли пассажиру садиться в легковой автомобиль со стороны проезжей части?</p> <p>А. Запрещается. Б. Разрешается, если со стороны тротуара это невозможно. В. Разрешается во всех случаях.</p>	2
7.	<p>Какое количество пассажиров может размещаться в кузове грузового автомобиля, оборудованного для перевозки людей?</p> <p>А. В зависимости от размера кузова. Б. Не более 16 человек. В. По числу оборудованных для сиденья мест.</p>	2
8.	<p>Какова очередность движения?</p> <p>А. Пешеход и велосипедист, автомобили. Б. Автомобили, пешеход и велосипедист. В. Красный автомобиль, пешеход, синий автомобиль, велосипедист.</p>	2
		
9.	<p>В каких случаях пострадавшего следует извлекать из салона автомобиля?</p> <p>А. При высокой вероятности опрокидывания автомобиля, пожара, взрыва или при потере потерпевшим сознания. Б. При высокой вероятности опрокидывания автомобиля, пожара, взрыва, переохлаждения потерпевшего, при отсутствии у него сознания и дыхания, а также невозможности оказания первой помощи непосредственно в салоне автомобиля. В. При высокой вероятности опрокидывания автомобиля, пожара, взрыва или при обильном кровотечении либо черепно-мозговой травме.</p>	2
10.	<p>На пешеходном переходе, при включенном светофоре, работает регулировщик. Пешеход должен:</p> <p>А. Руководствоваться сигналами светофора. Б. Руководствоваться сигналами регулировщика. В. Переход дороги на данном участке запрещен.</p>	2


**7 класс
Тест №2**

№ п. п.	Вопросы	Баллы
1.	<p>Инструкция: самостоятельно дополните определение, используя предложенные варианты.</p> <p>Пешеходы, находящиеся в населенных пунктах, должны иметь при себе _____ и обеспечивать _____ этих предметов _____ транспортных средств.</p> <p>А. Световозвращающие элементы, видимость, водителям.</p>	2

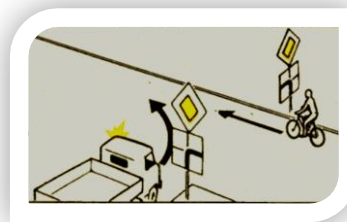
	<p>Б. Средства пассивной защиты, видимость, пассажирам.</p> <p>В. Световозвращающие элементы, ношение, водителями.</p>		
2.	<p>Инструкция: определите, какое утверждение верно:</p> <p>А. «Стоянка» — преднамеренное прекращение движения транспортного средства на время до 5 мин, а также на большее, если это не обходимо для посадки или высадки пассажиров либо загрузки или разгрузки транспортного средства.</p> <p>Б. «Стоянка» — преднамеренное прекращение движения транспортного средства на время более 5 мин по причинам, несвязанным с посадкой или высадкой пассажиров либо загрузкой или разгрузкой транспортного средства.</p>	2	
3.	<p>Инструкция: посмотрите на картинку, проанализируйте ситуацию и определите, как должен поступить пешеход. Выберите правильный ответ.</p> <p>Олег Николаевич и Алиса переходили проезжую часть дороги по регулируруемому пешеходному переходу, но не успели закончить переход. Помогите им правильно поступить в данной ситуации.</p> <p>А. Закончить переход независимо от сигнала светофора, автомобили должныступить дорогу.</p> <p>Б. Остановиться на линии, разделяющей транспортные потоки противоположных направлений, дождаться, когда загорится зелёный сигнал пешеходного светофора и продолжить движение.</p> <p>В. Пропустив транспортные средства, которые начали движение, закончить переход.</p>		2
4.	<p>При наличии 2 и более полос для движения в каждом направлении велосипедист имеет право:</p> <p>А. Совершить разворот.</p> <p>Б. Повернуть направо.</p> <p>В. Повернуть налево.</p> <p>Г. Двигаться по второй полосе.</p>	2	
5.	<p>Велосипед оборудуется световозвращающими элементами следующих цветов:</p> <p>А. Спереди - оранжевый, сбоку – красный, сзади – белый.</p> <p>Б. Спереди – белый, сбоку – оранжевый, сзади – красный.</p> <p>В. Спереди – красный, сбоку – белый, сзади – оранжевый.</p>	2	
6.	<p>Этот сигнал велосипедиста означает...</p> <p>А. Поворачиваю направо.</p> <p>Б. Поворачиваю налево.</p> <p>В. Останавливаюсь.</p>		2
7.	<p>Относится ли мопед к «Механическим транспортным средствам?»:</p> <p>А. Относится.</p> <p>Б. Не относится.</p>	2	
8.	<p>Разрешается ли перевозка людей в грузовом прицепе?</p> <p>А. Запрещается.</p> <p>Б. Разрешается.</p> <p>В. Разрешается только лицам, сопровождающим груз.</p>	2	

9.	<p>Каким транспортным средствам данный дорожный знак запрещает дальнейшее движение?</p> <p>А. Всем без исключения. Б. Всем, кроме общественного транспорта. В. Всем, кроме двухколесных мотоциклов и велосипедов.</p>		2
10.	<p>Какова первая помощь при наличии признаков поверхностного термического ожога (покраснение и отек кожи, образование на месте ожога пузырей, наполненных прозрачной жидкостью, сильная боль)?</p> <p>А. Полить ожоговую поверхность холодной водой, накрыть стерильной салфеткой и туго забинтовать. Б. Вскрыть ожоговые пузыри, очистить ожоговую поверхность от остатков одежды, накрыть стерильной салфеткой (не бинтовать), по возможности приложить холод, поить пострадавшего водой. В. Охладить ожоговую поверхность водой в течение 20 минут. Ожоговые пузыри не вскрывать, остатки одежды с обожженной поверхности не удалять, место ожога накрыть стерильной салфеткой (не бинтовать), по возможности приложить холод и поить пострадавшего водой.</p>		2

**7 класс
Тест №3**

№ п. п.	Вопросы	Баллы	
1.	<p>Инструкция: выберите правильный вариант ответа. Передвигаться в зоне действия знака «Пешеходная зона» разрешено:</p> <p>А. Только пешеходам. Б. Пешеходам, велосипедистам в возрасте младше 14 лет. В. Пешеходам и велосипедистам при отсутствии велосипедной дорожки.</p>	2	
2.	<p>Инструкция: определите, какое утверждение верно.</p> <p>А. Велосипедистам разрешается перевозить груз, выступающий более чем на 0,5 м по длине или ширине только по проезжей части дороги. Б. Велосипедистам разрешается перевозить груз, выступающий менее чем на 0,5 м по длине или ширине только по проезжей части дороги.</p>	2	
3.	<p>Инструкция: посмотрите на картинку, проанализируйте ситуацию и определите, как должен поступить пешеход. Выберите правильный ответ.</p> <p>Артур идет навстречу друзьям. Разрешается ли ему движение в данной ситуации?</p> <p>А. Разрешается, так как он не создает помех велосипедистам. Б. Разрешается, так как движение может осуществляться как со стороны велосипедистов, так и со стороны пешеходов. В. Запрещается, Артуру необходимо перейти на дорожку, расположенную справа от него.</p>		2
4.	<p>Где разрешается пешеходам пересекать железнодорожные пути?</p> <p>А. На переезде, а при его отсутствии — в местах, где видимость в обоих направлениях не менее 1000 м. Б. В местах, наиболее удобных с точки зрения пешехода.</p>	2	



	В. Только на железнодорожных переездах. Г. Не ближе 1000 м от железнодорожной станции.	
5.	Где должны идти пешеходы вне населенного пункта по дороге с разделительной полосой? А. По внешнему краю проезжей части справа. Б. По внутреннему краю проезжей части слева. В. По внешнему краю проезжей части слева.	2
6.	Обязан ли водитель мопеда быть в мотошлеме во время движения? А. Нет, данное требование относится только к водителям мотоцикла. Б. Только если движется вне населенного пункта. В. Обязан быть в мотошлеме, независимо от того, где и в какое время движется.	2
7.	Где должен идти мотоциклист вне населенного пункта, если он ведет мотоцикл руками? А. По правой обочине или по правому краю проезжей части. Б. По левой обочине или по левому краю проезжей части. В. Можно по любой обочине.	2
8.	При отсутствии тротуаров, пешеходных дорожек и обочин в населенных пунктах пешеходы могут идти по проезжей части: А. В один ряд по краю. Б. По два человека в ряд по краю. В. По желанию пешеходов.	2
9.	Как оказать первую помощь при отморожении и переохлаждении? А. Растереть пораженные участки тела снегом или шерстью, затем их утеплить, дать алкоголь, переместить в теплое помещение. Б. Утеплить пораженные участки тела и обездвижить их, укутать пострадавшего теплой одеждой или пледом, дать теплое питье, переместить в теплое помещение. В. Смазать пораженные участки тела кремом, наложить согревающий компресс и грелку, переместить в теплое помещение, дать теплое питье.	2
10.	Кто должен уступить дорогу? А. Водитель автомобиля. Б. Велосипедист.	2



7 класс
Тест №4

№ п. п.	Вопросы	Баллы
1.	Инструкция: выберите правильный вариант ответа. Дорожный знак, изображенный на рисунке, означает: А. Запрет на движение велосипедов и мопедов. Б. Запрет на движение велосипедов. В. Внимание, велосипедная дорожка.	2
2.	Инструкция: определите, какое утверждение верно. А. Мопед - транспортное средство с двигателем внутреннего сгорания	2



	<p>рабочим объемом более 50 кубических сантиметров максимальной конструктивной скоростью не более 60 км/ч.</p> <p>Б. Мопед – двух или трехколесное механическое транспортное средство, максимальная конструктивная скорость которого не превышает 50 км/ч, имеющее двигатель внутреннего сгорания с рабочим объемом, не превышающим 50 куб. см, или электродвигатель номинальной максимальной мощностью в режиме длительной нагрузки более 0,25 кВт и менее 4 кВт.</p>	
3.	<p>Инструкция: посмотрите на картинку, проанализируйте ситуацию. Выберите правильный ответ.</p> <p>Автобус совершает поворот направо. Как должен поступить велосипедист, который намерен продолжить движение в прямом направлении?</p> <p>А. Велосипедист должен пропустить автобус, так как он находится в слепой зоне для водителя автобуса.</p> <p>Б. Убедиться, что водитель автобуса его пропускает и продолжить движение первым.</p> <p>В. Сойти с велосипеда, зайти на тротуар, чтобы пропустить автобус.</p>	2
		
4.	<p>Чем Вы должны руководствоваться, если значения дорожных знаков и линий горизонтальной разметки противоречат друг другу?</p> <p>А. Требованиями линий разметки.</p> <p>Б. Требованиями дорожных знаков.</p> <p>В. Правила эту ситуацию не регламентируют.</p>	2
5.	<p>В каких случаях пешеходам разрешается переходить проезжую часть вне пешеходного перехода при наличии разделительной полосы?</p> <p>А. Вне населенных пунктов при отсутствии транспортных средств на дороге.</p> <p>Б. В населенных пунктах.</p> <p>В. Запрещается во всех случаях.</p>	2
6.	<p>Назовите элементы дороги.</p> <p>А. Проезжая часть, тротуар, разделительная полоса.</p> <p>Б. Проезжая часть, обочина, пешеходный переход, кювет.</p> <p>В. Проезжая часть и бордюр.</p>	2
7.	<p>Наиболее правильное название одной из дорожных разметок:</p> <p>А. «Остановочный остров».</p> <p>Б. «Островок безопасности».</p> <p>В. «Направляющий островок».</p>	2
8.	<p>Правильно ли идут пешеходы, ведущие велосипед?</p> <p>А. Неправильно.</p> <p>Б. Правильно.</p>	2
		
9.	<p>Какова первая помощь при черепно-мозговой травме, сопровождающейся ранением волосистой части головы?</p> <p>А. Остановить кровотечение прямым давлением на рану и наложить давящую повязку. При потере сознания придать устойчивое боковое положение. По</p>	2

	<p>возможности, приложить к голове холод.</p> <p>Б. Фиксировать шейный отдел позвоночника с помощью импровизированной шейной шины (воротника). На рану наложить стерильный ватный тампон, пострадавшего уложить на спину, приподняв ноги. По возможности, к голове приложить холод.</p> <p>В. Шейную шину не накладывать, рану заклеить медицинским пластырем, пострадавшего уложить на бок.</p>	
10.	<p>Вне населенных пунктов мотоциклам разрешается движение со скоростью...</p> <p>А. Не более 100 км/час.</p> <p>Б. Не более 90 км/час.</p> <p>В. Не более 60 км/час.</p> <p>Г. Скорость движения не ограничивается.</p>	2

Перечень знаний и умений, которыми должны владеть обучающиеся 8 классов по правилам и безопасному поведению на дорогах.

Обучающиеся должны знать:

- Формы регулирования движения. Дорожные знаки.
- Типичные опасные ситуации на дорогах, их причины.
- Технические требования, предъявляемые к велосипеду, мопеду. Дополнительные требования к движению велосипедистов.
- Об обязанностях участников дорожного движения, их ответственности при нарушении ПДД.
- Формы регулирования движения. Дорожные знаки.
- Типичные опасные ситуации на дорогах, их причины.
- Технические требования, предъявляемые к велосипеду, мопеду. Дополнительные требования к движению велосипедистов.
- Об обязанностях участников дорожного движения, их ответственности при нарушении ПДД.
- Типы светофоров и их сигналы. Методы и системы управления светофорами. Сигналы регулировщика. Значение дорожных знаков и разметки в организации движения. Группы знаков и их значение.
- Правила оказания первой (доврачебной) помощи.

Обучающиеся должны уметь:

- Применять приемы самосохранения при возможном попадании в ДТП и ЧС.
- Переключать внимание на зону повышенной опасности. Уметь предвидеть и предугадать возникновение опасности.
- Вызывать государственные службы безопасности и спасения.
- Ориентироваться в дорожных ситуациях (распознавать опасности и принимать адекватные решения).
- Управлять велосипедом с соблюдением Правил и требований безопасности движения.
- Применять приемы оказания первой (доврачебной) помощи.

Организация и содержание учебно-воспитательного процесса с обучающимися 8 класса

Тематический план

№ п/п	Тема	Содержание	Кол-во часов
1.	Дорожные знаки. Загородная дорога.	Запрещающие дорожные знаки. (ПДД-2021., стр.117) Видимость дорог в условиях тумана, дождя, снегопада и тому подобного, а также в сумерки.(ПДД-2021., стр.10)	1
2.	Правила поведения участников дорожного движения.	Общие положения дорожного движения: обязанности водителей, обязанности пешеходов и пассажиров.(ПДД-2021., стр.33-36)	1
3.	Пассажиры. Первая доврачебная помощь.	Правила посадки и высадки пассажиров. Четкое представление о дисциплине пассажиров, водителей и велосипедистов.(ПДД-2021., стр.76) Применение лекарственных средств.	1
4.	Контрольное занятие	Тест №1	1
5.	Правила и безопасность при движении велосипедистов по краю проезжей части.	Управление велосипедом. Требования ПДД к движению велосипедов, водителей мопедов и скутеров: правила маневров обгона и опережения; правила объезда трамвая, троллейбуса, автобуса; проезд спусков и подъемов; правила движения по ночной дороге, в туман, дождь, грозу и при других неблагоприятных условиях; групповая поездка велосипедистами в летнее время. (ПДД-2021., стр.47)	1
6.	Техническое состояние велосипеда, скутера и мопеда.	Требования к техническому состоянию велосипеда, скутера и мопеда, его оборудованию и к экипировке водителя(ПДД-2021., стр.107)	1
7.	Проезд перекрестков, пешеходных переходов, остановок общественного транспорта. ДТП. Первая доврачебная помощь.	Правила проезда регулируемых и нерегулируемых перекрестков. Приоритет транспортных средств. Проезд по автомагистрали. (ПДД-2021., стр.79, стр. 93) Определение - Дорожно транспортное происшествие. Первая доврачебная помощь при ранениях в ДТП.	1
8.	Контрольное занятие	Тест №2	1
9.	Дорожные знаки. Формы регулирования движения.	Знаки приоритета. Сигналы светофора и регулировщика. Опасности, подстерегающие пассажира при посадке и высадке из транспорта, в процессе передвижения и в аварийных ситуациях. (ПДД-2021., стр. 37)	1
10.	Ответственность участников дорожного движения. Первая доврачебная помощь.	Виды ответственности за нарушение ПДД. (ПДД-2021., стр. 165) Сердечно-легочная реанимация.	1
11.	Контрольное занятие	Тест №3	1

12.	Водитель. Главная дорога. Обязанности пассажиров.	Определение водителя. Определение – главная дорога. (ПДД-2021., стр. 7) Правила пассажиров при посадке и высадке в транспортные средства. (ПДД-2021., стр. 36)	1
13.	Дорожные знаки. Правила Темное время суток. Первая доврачебная помощь.	Предупреждающие дорожные знаки.(ПДД-2021., стр. 111) Действия при недостаточной видимости.Световозвращающие элементы велосипедиста. Первая доврачебная помощь при черепно-мозговой травме.	1
14.	Итоговое занятие	Тест №4	1
		Итого часов:	14


**8 класс
Тест №1**

№ п. п.	Вопросы	Баллы
1.	<p>Инструкция: посмотрите на изображения дорожных знаков, определите те знаки, которые запрещают движение велосипедистов.</p>  <p>А.1,2. Б.2,3. В.2,4.</p>	2
2.	<p>Инструкция: определите, какое утверждение верно.</p> <p>А. При усталости водителя внимание ослабляется, время реакции увеличивается. Б. При усталости водителя внимание ослабляется, время реакции уменьшается.</p>	2
3.	<p>Инструкция: посмотрите на картинку, проанализируйте ситуацию. Выберите правильный ответ.</p> <p>Автобус находится на автобусной остановке. Разрешено ли велосипедисту объехать автобус в данной ситуации?</p> <p>А. Разрешено, увеличив скорость, и не создавая помех автобусу. Б. Разрешено, показав рукой сигнал маневра и не создавая помех другим транспортным средствам. В. Запрещено.</p> 	2
4.	<p>Что должны, по возможности, предпринять пешеходы при движении по загородной дороге в темное время суток и в условиях недостаточной видимости?</p> <p>А. Идти, по возможности придерживаясь правой стороны, по ходу движения транспортных средств. Б. Идти навстречу движению транспортных средств, надеть яркую нарукавную повязку или прикрепить к своей одежде световозвращающие элементы.</p>	2

	В. Идти, придерживаясь правой стороны и освещая дорогу фонариком.	
5.	Где следует переходить дорогу, если обозначенного пешеходного перехода нет? А. На перекрестках по линии тротуаров или обочин. Б. В любом месте.	2
6.	Какие правила безопасности нужно соблюдать при переходе проезжей части? А. Не отвлекаться Б. Внимательно наблюдать за дорогой. В. Не бежать через дорогу Г. Все вышеперечисленные правила.	2
7.	В каком случае разрешается посадка, и высадка пассажиров со стороны проезжей части? А. При вынужденной остановке транспортного средства. Б. По усмотрению водителя при условии, что это будет безопасно и не создает помех другим участникам движения. В. Если это невозможно сделать со стороны тротуара или обочины и при условии, что это будет безопасно и не создает помех другим участникам движения. Г. На дорогах с односторонним движением, имеющих две полосы или более.	2
8.	При отсутствии в зоне видимости перекрестка или пешеходного перехода пешеход на дороге без ограждений и разделительной полосы. А. Может перейти проезжую часть. Б. Может перейти проезжую часть, если она просматривается хотя бы в одну сторону. В. Может перейти проезжую часть, если она просматривается в обе стороны. Г. Переход запрещен.	2
9.	При переходе через дорогу ты успел дойти только до осевой линии. Что правильнее предпринять в данной ситуации? А. побыстрее закончить переход. Б. Вернуться назад. В. Остановиться на месте.	2
10.	Разрешено ли давать пострадавшему лекарственные средства при оказании ему первой помощи? А. Разрешено. Б. Разрешено в случае крайней необходимости. В. Запрещено.	2

**8 класс
Тест №2**

№ п. п.	Вопросы	Баллы
1.	Инструкция: выберите правильный вариант ответа. Движение велосипедистов по краю проезжей части осуществляется: А. По ходу движения транспортных средств. Б. Навстречу движению транспортных средств. В. Движение велосипедистов по проезжей части запрещено.	2
2.	«Дорожно-транспортное происшествие» – это: А. Событие, возникшее в процессе движения по дороге транспортного	2

	<p>средства и с его участием, при котором погибли или ранены люди, повреждены транспортные средства, сооружения, грузы либо причинен иной материальный ущерб.</p> <p>Б. Совокупность общественных отношений, возникающих в процессе перемещения людей и грузов с помощью транспортных средств или без таковых в пределах дорог.</p> <p>В. Движение транспортного средства со скоростью, большей скорости попутного транспортного средства.</p>		
3.	<p>Инструкция: посмотрите на картинку, проанализируйте ситуацию. Выберите правильный ответ.</p> <p>Алёша выезжает на дорогу, обозначенную знаком «Автомобильная магистраль». Разрешено ли ему в данной ситуации продолжить движение?</p> <p>А. Разрешено, если на дороге есть полоса для велосипедистов.</p> <p>Б. Разрешено, если скорость велосипедиста будет больше 60 км/час.</p> <p>В. Запрещено.</p>		2
4.	<p>На заднем сиденье мотоцикла допускается перевозка пассажиров...</p> <p>А. Не младше 7-ми лет.</p> <p>Б. Не младше 12-ти лет.</p> <p>В. Не младше 16-ти лет.</p> <p>Г. Любого возраста.</p>		2
5.	<p>При проезде нерегулируемого пешеходного перехода велосипедист:</p> <p>А. Имеет право преимущественного проезда.</p> <p>Б. Обязан пропустить пешеходов, но только в случаях, когда их пропускают другие водители.</p> <p>В. Обязан пропустить пешеходов в любом случае.</p>		2
6.	<p>Неисправный велосипед:</p> <p>А. Следует буксировать любым транспортным средством.</p> <p>Б. Для буксировки можно использовать другой велосипед, под управлением взрослого человека.</p> <p>В. Необходимо вести руками.</p>		2
7.	<p>При опущенном шлагбауме и отсутствии приближающегося поезда на железнодорожном переезде велосипедист:</p> <p>А. Может проехать по пешеходной дорожке.</p> <p>Б. Должен перевести велосипед руками по проезжей части.</p> <p>В. Обязан дождаться поднятия шлагбаума.</p>		2
8.	<p>Каковы первоначальные действия при оказании первой помощи в случае ранения, полученного в результате ДТП?</p> <p>А. Промыть рану водой, удалить инородные тела, внедрившиеся в рану, приложить стерильную вату, закрепив ее бинтовой повязкой.</p> <p>Б. Надеть медицинские перчатки, рану промыть спиртовым раствором йода, смазать лечебной мазью и заклеить сплошным лейкопластырем.</p> <p>В. Надеть медицинские перчатки, рану не промывать, на рану наложить марлевую стерильную салфетку, закрепив ее лейкопластырем по краям или бинтовой повязкой.</p>		2
9.	<p>На группы, по, сколько человек, должна быть разделена колонна велосипедистов:</p> <p>А. по 4-8 велосипедистов.</p> <p>Б. по 10 велосипедистов.</p>		2


	В. по 8-10 велосипедистов.	
10.	<p>Какой маневр намеревается выполнить водитель легкового автомобиля?</p> <p>А. Обгон. Б. Объезд. В. Перестроение с дальнейшим опережением.</p>	2



**8 класс
Тест №3**

№ п. п.	Вопросы	Баллы
1.	<p>Инструкция: Установите по иерархии в порядке убывания, где разрешено движение велосипедистов старше 14 лет:</p> <p>1. По велосипедной, вело пешеходной дорожке. 2. По тротуару или пешеходной дорожке. 3. По обочине. 4. По полосе для велосипедистов. 5. По правому краю проезжей части. А. 1,2,3,4,5. Б. 1,5,3, 4,2. В. 1,4,5,3,2.</p>	2
2.	<p>Инструкция: определите, какое утверждение верно.</p> <p>А. Велосипедистам разрешено перевозить детей в возрасте до 7 лет при отсутствии специально оборудованных для них мест. Б. Велосипедистам запрещено перевозить детей в возрасте до 7 лет при отсутствии специально оборудованных для них мест.</p>	2
3.	<p>Инструкция: посмотрите на картинку, проанализируйте ситуацию. Выберите правильный ответ.</p> <p>Разрешается ли велосипедам осуществлять движение как по асфальту на картинке?</p> <p>А. Разрешается в населенном пункте ближе к правому краю проезжей части. Б. Разрешается, при условии отсутствия транспорта и других средств в пределах видимости велосипедистов. В. Запрещается, так как велосипедисты должны двигаться в один ряд по правому краю проезжей части.</p>	2
4.	<p>Какие меры предосторожности должен предпринять пассажир легкового автомобиля перед тем, как открыть его дверь?</p> <p>А. Убедиться, что это безопасно для окружающих и не мешает другим участникам движения. Б. Никаких мер не надо. В. Спросить разрешения у других пассажиров.</p>	2
5.	<p>Разрешается ли перевозить детей, не достигших 12 лет, в кабине</p>	2



	грузового автомобиля? А. Разрешается. Б. Разрешается только в сопровождении взрослого пассажира. В. Запрещается.	
6.	Разрешается ли водителю мопеда езда по пешеходным дорожкам? А. Разрешается во всех случаях. Б. Разрешается, если это не мешает пешеходам. В. Не разрешается.	2
7.	Как правильно водителю выполнить требование этого дорожного знака: А. Остановиться перед пересекаемой проезжей частью. Б. Пересечь перекресток без остановки. В. Уступить дорогу транспортным средствам, идущим по пересекаемой дороге.	2
		
8.	Кому должны подчиняться водители и пешеходы, если сигналы регулировщика противоречат сигналам светофора? А. Только сигналам светофора. Б. Только сигналам регулировщика.	2
9.	Каким образом проводится сердечно-легочная реанимация пострадавшего? А. Искусственное дыхание и давление руками на грудину пострадавшего: вначале 1 вдох методом «Рот ко рту», затем 15 надавливаний на грудину. Б. Давление руками на грудину пострадавшего и искусственное дыхание: вначале 15 надавливаний на грудину, затем 1 вдох методом «Рот ко рту». В. Давление руками на грудину пострадавшего и искусственное дыхание: вначале 30 надавливаний на грудину, затем 2 вдоха методом «Рот ко рту».	2
10.	Какую ответственность несет виновник ДТП, если при этом погиб человек? А. Административную ответственность. Б. Уголовную ответственность. В. Никакой.	2

**8 класс
Тест №4**

№ п. п.	Вопросы	Баллы
1.	Инструкция: выберите верный вариант ответа (А, Б или В), в котором указана правильная последовательность действий. Представьте, что Вас попросили проводить пятилетнего соседа Сашу в детский сад. Часть пути предстоит преодолеть на автобусе. Вы дошли до автобусной остановки. Каков дальнейший порядок ваших действий? 1. Пропустить малыша вперёд. 2. Пройти первыми и подстраховать малыша. 3. Дождаться полной остановки автобуса и открытия дверей для посадки–высадки. 4. Занять свободное место, к выходу готовиться заранее. 5. Дождаться своей очереди выхода из автобуса. А. 3,1,4,3,5,2. Б. 3,2,4, 3,5,1. В. 3,1,2,4,3,5.	2

2.	<p>Инструкция: определите, какое утверждение верно:</p> <p>А. При движении по дорогам в темное время суток или в условиях недостаточной видимости пешеходам и велосипедистам рекомендуется использовать световозвращающие элементы.</p> <p>Б. При движении по дорогам в темное время суток или в условиях недостаточной видимости пешеходам и велосипедистам необходимо использовать яркую одежду и необычные расцветки.</p>	2
3.	<p>Инструкция: посмотрите на картинку, проанализируйте ситуацию. Выберите правильный ответ.</p> <p>Коля, которому 16 лет, катает братика Матвея, которому 5 лет, на раме велосипеда, чтобы ему было лучше видно дорогу. Помогите определить, нарушает ли Коля правила дорожного движения.</p> <p>А. Нарушает, потому что осуществляет перевозку ребенка до 7 лет без детского удерживающего устройства.</p> <p>Б. Нарушает, потому что осуществляет перевозку ребенка до 7 лет без дополнительного сиденья.</p> <p>В. Нарушает, потому что осуществляет перевозку ребенка до 7 лет без специально оборудованного места.</p>	2
4.	<p>Какой из знаков устанавливается непосредственно у пешеходного перехода?</p> <p>А. 1,2,3,4</p> <p>Б. 2 и 4</p> <p>В. Ни один из перечисленных.</p>	2
5.	<p>Кто называется водителем?</p> <p>А. Лицо, управляющее инвалидной коляской без двигателя.</p> <p>Б. Лицо, управляющее каким-либо транспортным средством.</p> <p>В. Лицо, ведущее велосипед.</p> <p>Г. Все вышеперечисленные.</p>	2
6.	<p>Что означает термин «Дорога»?</p> <p>А. Полоса земли, отведенная для движения транспортных средств и пешеходов.</p> <p>Б. Полоса земли, имеющая дорожное покрытие</p> <p>В. Полоса земли либо поверхность искусственного сооружения, обустроенная и используемая для движения транспортных средств, включающая в себя проезжие части, трамвайные пути, тротуары, обочины и разделительные полосы.</p>	2
7.	<p>Какая дорога является главной на перекрестке?</p> <p>А. Дорога с твердым покрытием по отношению к грунтовой дороге.</p> <p>Б. Дорога с тремя или более полосами движения по отношению к дороге с двумя полосами.</p> <p>В. Дорога с асфальтобетонным покрытием по отношению к дороге, покрытой брусчаткой.</p>	2
8.	<p>Водитель механического транспортного средства, участвующий в международном дорожном движении, обязан:</p> <p>А. Иметь при себе регистрационные документы на данное транспортное средство (при наличии прицепа — и на прицеп).</p> <p>Б. Иметь при себе водительское удостоверение, соответствующие Конвенции о дорожном движении, а также документы, предусмотренные таможенным законодательством Евразийского эконо</p>	2



	<p>мического союза, с отметками таможенных органов, подтверждающими временный ввоз данного транспортного средства (при наличии прицепа — и прицепа).</p> <p>В. Иметь при себе и потребовать от сотрудников полиции передавать им для проверки регистрационные документы на данное транспортное средство (при наличии прицепа — и прицепа), водительское удостоверение, соответствующие Конвенции о дорожном движении, а также документы, предусмотренные таможенным законодательством Евразийского экономического союза, с отметками таможенных органов, подтверждающими временный ввоз данного транспортного средства (при наличии прицепа — и прицепа).</p>	
9.	<p>Управлять мопедом при движении по дорогам разрешается лицам:</p> <p>А. Не моложе 18 лет</p> <p>Б. Не моложе 16 лет.</p> <p>В. Любым лицам</p>	2
10.	<p>Какова первая помощь при черепно-мозговой травме, сопровождающейся ранением волосистой части головы?</p> <p>А. Остановить кровотечение прямым давлением на рану и наложить давящую повязку. При потере сознания придать устойчивое боковое положение. По возможности, приложить к голове холод.</p> <p>Б. Фиксировать шейный отдел позвоночника с помощью импровизированной шейной шины (воротника). На рану наложить стерильный ватный тампон, пострадавшего уложить на спину, приподняв ноги. По возможности, к голове приложить холод.</p> <p>В. Шейную шину не накладывать, рану заклеить медицинским пластырем, пострадавшего уложить на бок.</p>	2

***Перечень знаний и умений, которыми должны владеть обучающиеся
9 классов по правилам и безопасному поведению на дорогах.***

Обучающиеся должны знать:

- Что такое дорожно-транспортное происшествие. Виды ДТП. Причины и последствия ДТП.
- Современные транспортные средства – источник повышенной опасности. Некоторые краткие сведения и технические характеристики транспортных средств. Основные сведения о требованиях безопасности, предъявляемых к транспортным средствам.
- Государственные службы безопасности и спасения. Государственная противопожарная служба. Государственная инспекция безопасности дорожного движения и полиция. «Скорая медицинская помощь». Главное управление по делам гражданской обороны и чрезвычайным ситуациям.
- Закон Российской Федерации «О безопасности дорожного движения». Закон – основа безопасности. Правила дорожного движения – нормативный документ и основа дорожной грамоты.
- Требование к водителям и пешеходам. Основы теории движения автомобиля. Понятие о надежности водителя. О культуре поведения пешехода. Взаимоуважение участников движения – залог безопасности на дороге. Преимущества пешехода перед транспортными средствами. Преимущества транспортных средств перед пешеходами.

Пешеходы на остановках маршрутного транспорта. Предупреждающие и специальные сигналы транспортных средств, их опознавательные знаки. Требования к пешеходам в жилых зонах и на автомагистралях.

- Где можно кататься на роликах, скейтах и других самокатных средствах, а также на санях, лыжах, коньках и т.п. Требования безопасности при катании на всех видах указанных самокатных средствах. Требования к экипировке катающихся, техническому состоянию и оснастке средств катания.
- Правовое воспитание пешеходов. Что такое правовое воспитание. Зачем нужно правовое воспитание. Ответственность пешеходов за нарушение ПДД. Значение информации в обеспечении безопасности движения.
- Решать ситуационные и другие задачи по ПДД с применением макетов и без них.

Обучающиеся должны уметь:

- Применять приемы самосохранения при возможном попадании в ДТП и ЧС в качестве пассажиров транспортных средств.
- Вызывать государственные службы безопасности и спасения.
- Ориентироваться в дорожных ситуациях (распознавать опасности и принимать адекватные решения).
- Соблюдать требования Правил безопасности на остановках маршрутного транспорта, при посадке и высадке из него.
- Управлять велосипедом с соблюдением Правил и требований безопасности движения.
- Применять приемы оказания первой (доврачебной) помощи.



Организация и содержание учебно-воспитательного процесса с обучающимися 9 класса Тематический план

№ п/п	Тема	Содержание	Кол-во часов
1.	Административная ответственность за нарушение ПДД. Уголовная ответственности за нарушение ПДД. Гражданская ответственности за нарушение ПДД.	Административная ответственность водителей, пешеходов, и пассажиров за правонарушения в области дорожного движения. Понятия и виды административного воздействия: предупреждение, штраф, лишение права управления транспортным средством. <i>(Правила Дорожного Движения 2021, стр. 236)</i> Уголовная ответственность за преступления на автомобильном транспорте. Условия наступления уголовной ответственности. <i>(Правила Дорожного Движения 2021, стр.272)</i> Основания для гражданской ответственности. Понятия: вред, вина, противоправное действие. Ответственность за вред, причиненный в ДТП. <i>(Правила Дорожного Движения 2021, стр.283)</i>	1

2.	Дорожные знаки. Скорость движения. Остановка и стоянка.	Знаки приоритета. Знак «Главная дорога». (ПДД - 2021., стр. 7) Определение – скорость движения. Скорость движения в населенных и вне населенных пунктах. (Правила Дорожного Движения 2021, стр.89) Остановка и стоянка транспортных средств. (Правила Дорожного Движения 2021, стр.97)	1
3.	Нерегулируемый перекресток – зона повышенной опасности.	Движение транспортных средств на перекрестке. Поворот транспортных средств. Предупредительные сигналы, подаваемые водителями. Обозначения нерегулируемого перекрестка.(ПДД – 2021, стр. 79)	1
4.	Правила и безопасность движения на мотоцикле.	Мотоцикл – транспортное средство. Управление мотоциклом: требования к водителю. Требования к экипировке водителя. Требования ПДД к перевозке людей на мотоцикле. (Правила Дорожного Движения 2021, стр.138)	1
5	Контрольное занятие	Тест №1	1
6.	Дорожные условия и безопасность движения в условиях плохой видимости.	Особенности движения в тумане, по горным дорогам. Опасные участки автомобильных дорог: сужение проезжей части, свежееуложенное покрытие дорога, битумные и гравийные покрытия, затяжной спуск, подъезды к мостам, железнодорожным переездам; другие опасные участки. Пользование дорогами в осенний и весенний периоды. Движение по ледяным переправам. (Правила Дорожного Движения 2021, стр. 227)	1
7.	Место стоянки и остановки транспортных средств.	Остановка и стоянка транспортных средств в населенных и вне населенных пунктах. Способы постановки транспортного средства. Сочетание знаков и линий дорожной разметки. (Правила Дорожного Движения 2021, стр. 98)	1
8.	Дорожные знаки. Оснащение оборудования велосипеда.	Предупреждающие и предписывающие дорожные знаки. Их назначение. (ПДД – 2021, стр. 111, стр. 123) Оснащение велосипеда оборудованием со световозвращающими элементами. (Правила Дорожного Движения 2021, стр. 145)	1
9.	Вызов спецслужб при ДТП.	Порядок информирования спецслужб (скорая, МЧС, ГИБДД) при ДТП.	1
10.	Итоговое занятие	Тест № 2.	1
		Итого часов:	10

9 класс
Тест №1

№	Вопросы	Баллы
---	---------	-------




















п. п.		
1.	1. Инструкция: определите, какое утверждение верно: А. Лицо, находящееся на самокате, является пешеходом. Б. Лицо, находящееся на самокате, является водителем.	1
2.	Инструкция: посмотрите на картинку, проанализируйте ситуацию. Выберите правильный ответ. На картинке изображена мама с сыном, возраста 10 лет, которые едут на мотоцикле по городу. Нарушает ли правила дорожного движения водитель и пассажир? А. Не нарушают, перевозка детей на заднем сидении мотоцикла возможна с 10 лет. Б. Нарушают, перевозка детей на заднем сидении мотоцикла возможна с 12 лет. В. Не нарушают, так как мотоцикл оборудован местом для пассажира и мальчику больше 7 лет.	2
		
3.	Инструкция: определите, какое утверждение верно. А. В зоне действия знаков «Велосипедная зона» и «Конец велосипедной зоны» разрешено движение пешеходов. Б. В зоне действия знаков «Велосипедная зона» и «Конец велосипедной зоны» запрещено движение пешеходов.	2
4.	Может ли подвергаться административной ответственности за нарушение правил движения пассажир? А. Да. Б. Нет, за действия пассажира ответственность несет водитель.	2
5.	Какая дорога является главной? А. Имеющая продолжение в обе стороны. Б. С большим числом полос движения. В. Дорога с покрытием по отношению к дороге без покрытия.	2
6.	Пешеход переходит дорогу в неполюженном месте. Сотрудник ГИБДД не имеет права: А. Остановить и предупредить его. Б. Оштрафовать нарушителя. В. Провести ему курс лекций. Г. Арестовать нарушителя.	2
7.	На нерегулируемом пересечении велосипедной дорожки с дорогой, расположенном вне перекрестка, водители велосипедов и мопедов: А. Должны уступить дорогу транспортным средствам, движущимся по этой дороге. Б. Имеют приоритет и могут проехать первыми.	2
8.	Разрешен ли обгон на регулируемых перекрестках? А. Разрешен. Б. Запрещен.	2
9.	Вы намерены повернуть налево. Ваши действия? А. Уступите дорогу пешеходам. Б. Проедете перекресток, не уступая дорогу пешеходам.	1
		
10.	Что необходимо сделать для извлечения инородного тела, попавшего в	2

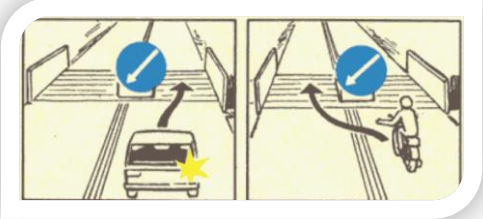
	<p>дыхательные пути пострадавшего?</p> <p>А. Уложить пострадавшего на свое колено лицом вниз и ударить кулаком по спине несколько раз.</p> <p>Б. Вызвать рвоту, надавив на корень языка. При отрицательном результате ударить ребром ладони по спине пострадавшего либо встать спереди и сильно надавить кулаком на его живот.</p> <p>В. Встать сбоку от пострадавшего, поддерживая его одной рукой под грудь, второй рукой наклонить корпус пострадавшего вперед головой вниз. Нанести пять резких ударов основанием ладони в область между лопаток. При отрицательном результате встать сзади, обхватить его обеими руками чуть выше пупка, сцепить свои руки в замок и пять раз резко надавить на область живота в направлении внутрь и кверху.</p>	
11.	<p>Вне населенных пунктов мотоциклам разрешается движение со скоростью...</p> <p>А. Не более 100 км/час.</p> <p>Б. Не более 90 км/час.</p> <p>В. Не более 60 км/час.</p> <p>Г. Скорость движения не ограничивается.</p>	1
12.	<p>Мотоциклам, мопедам и велосипедам стоянка на краю тротуара, граничащего с проезжей частью...</p> <p>А. Разрешается без ограничений.</p> <p>Б. Разрешается в случае, если это не мешает движению пешеходов.</p> <p>В. Разрешается только в местах, обозначенных знаком «Место стоянки».</p>	1

9 класс
Тест №2

№ п. п.	Вопросы	Баллы
1.	<p>Инструкция: определите, какое утверждение верно. «Опасность для движения» - это:</p> <p>А. Ситуация, возникающая в процессе дорожного движения, при которой продолжение движения в том же направлении и с той же скоростью создает угрозу возникновения дорожно-транспортного происшествия.</p> <p>Б. Ситуация, при видимости водителем дороги в направлении движения, ограниченная рельефом местности, геометрическими параметрами дороги, растительностью, строениями, сооружениями или иными объектами, в том числе транспортными средствами.</p>	2
2.	<p>Инструкция: посмотрите на картинку, проанализируйте ситуацию. Выберите правильный ответ.</p> <p>Посмотрите на картинку, на которой видно, как Иван выходит из такси.</p> <p>Проанализируйте его поведение. Разрешено ли пассажирам осуществлять высадку из транспортного средства таким образом?</p> <p>А. Запрещено, так как возможна высадка из транспортного средства со стороны тротуара (обочины).</p> <p>Б. Разрешено, так как высадка из транспортного средства со стороны проезжей части дороги не создаёт видимой опасности.</p>	2



	В. Запрещено, так как высадка из транспортного средства с стороны проезжей части дороги осуществляется в светлое время суток.							
3.	<p>Инструкция: подберите к каждому из изображений оборудования велосипеда правильное место его размещения на самом велосипеде.</p> <p>В левом столбике изображены виды оборудования, а в правом – части велосипеда. Сопоставьте их между собой.</p> <table border="1" style="width: 100%; text-align: center;"> <tr> <td style="width: 33%;">А </td> <td style="width: 33%;">Б </td> <td style="width: 33%;">В </td> </tr> <tr> <td>1 </td> <td>2 </td> <td>3 </td> </tr> </table> <p>А. 1-А, 2-Б, 3-В. Б. 1-Б, 2-В, 3-А. В. 1-В, 2-А, 3-Б.</p>	А 	Б 	В 	1 	2 	3 	2
А 	Б 	В 						
1 	2 	3 						
4.	<p>Каким кажется расположение дорожных объектов в тумане?</p> <p>А. Ближе действительного. Б. Дальше действительного. В. Соответствует действительности.</p>	1						
5.	<p>Что показывает данное сочетание дорожного знака и таблички?</p> <p>А. Расстояние от знака до первого поворота. Б. Расстояние между первым и вторым поворотом. В. Протяженность участка дороги с опасными поворотами.</p> <div style="text-align: right;">  </div>	2						
6.	<p>Где должен идти мотоциклист вне населенного пункта, если он ведет мотоцикл руками?</p> <p>А. По правой обочине или по правому краю проезжей части. Б. По левой обочине или по левому краю проезжей части. В. Можно по любой обочине.</p>	1						
7.	<p>Мотоциклам, мопедам и велосипедам стоянка на краю тротуара, граничащего с проезжей частью...</p> <p>А. Разрешается без ограничений. Б. Разрешается в случае, если это не мешает движению пешеходов. В. Разрешается только в местах, обозначенных знаком «Место стоянки».</p>	2						
8.	<p>Какие сведения необходимо сообщить диспетчеру для вызова скорой медицинской помощи при дорожно-транспортном происшествии (ДТП)?</p> <p>А. Указать общеизвестные ориентиры, ближайшие к месту ДТП. Сообщить о количестве пострадавших, указать их пол и возраст. Б. Указать улицу и номер дома, ближайшего к месту ДТП. Сообщить, кто пострадал в ДТП (пешеход, водитель автомобиля или пассажиры), и описать травмы, которые они получили. В. Указать место ДТП (назвать улицу, номер дома и общеизвестные ориентиры, ближайшие к месту ДТП). Сообщить: количество пострадавших,</p>	2						

	их пол, примерный возраст, наличие у них сознания, дыхания, кровообращения, а также сильного кровотечения, переломов и других травм. Дождаться сообщения диспетчера о том, что вызов принят.	
9.	Считается ли перекрестком выезд с автозаправочной станции? А. Да. Б. Нет.	2
10.	На каком из рисунков изображено правильное движение транспортного средства? А. На первом. Б. На втором. В. На обоих.	2
		
11.	Остановка транспортного средства запрещена на пешеходных переходах и... А. Ближе 5 метров перед ними. Б. Дальше 5 метров за ними. В. На расстоянии 5 метров до и после перехода.	1
12.	Какой неподвижный объект, не позволяющий продолжить движение по полосе, не относится к понятию «Препятствие»? А. Дефект проезжей части. Б. Посторонний предмет. В. Неисправное или поврежденное транспортное средство. Г. Транспортное средство, остановившееся на этой полосе из-за образования затора.	1

Перечень знаний и умений, которыми должны владеть обучающиеся 10 классов по правилам и безопасному поведению на дорогах.

Обучающиеся должны знать:

- Культура транспортного поведения - источник снижения аварийности на дорогах России. Применение специальных сигналов.
- Правила дорожного движения велосипедистов и правила личной безопасности на дорогах.
- Правовое воспитание пешеходов. Что такое правовое воспитание. Зачем нужно правовое воспитание. Ответственность юных водителей и пешеходов за нарушение ПДД. Значение информации в обеспечении безопасности движения.
- Значение разметки в общей организации дорожного движения, классификация разметки.
- Сведения о сельском транспорте, дополнительные требования к движению гужевых повозок и погону животных.
- Мопед и приравненные к нему транспортные средства. Возрастные требования к водителю мопеда. Требования безопасности при вождении мопеда. Мотоцикл – механическое транспортное средство. Возрастные требования к водителю мотоцикла. Требование безопасности при вождении мотоцикла. Водители двухколесных транспортных средств – равноправные участники дорожного движения.
- Правила оказания первой (доврачебной) помощи.

Обучающиеся должны уметь:

- Соблюдать требования Правил безопасности
- Принимать адекватные решения в дорожных ситуациях (психологическая готовность и понимание ситуации).
- Применять приемы самосохранения при возможном попадании в ДТП и ЧС
- Управлять велосипедом и мопедом с соблюдением Правил и требований безопасности движения.
- Применять приемы оказания первой (доврачебной) медицинской помощи при переломах.

**Организация и содержание учебно-воспитательного процесса с обучающимися
10 класса
Тематический план**

№ п/п	Тема	Содержание	Кол-во часов
1.	Дорожные знаки для велосипедистов и водителей мопедов.	Правила дорожного движения велосипедистов и водителей мопедов. Велопешеходная дорожка. Перевоз грузов на велосипеде. Буксировка велосипедов и мопедов. Движение велосипедистов и водителей мопедов в темное время суток или в условиях недостаточной видимости велосипедистам и водителям мопедов. <i>(Правила дорожного движения 2021., стр. 143)</i>	1
2.	Дорожная разметка и ее характеристики	Значение разметки в общей организации дорожного движения, классификация разметки. Горизонтальная разметка. Назначение. Цвет и условия применения каждого вида горизонтальной разметки. Действия водителей в соответствии с требованиями горизонтальной разметки. Вертикальная разметка. Назначение. Цвет и условия применения каждого вида вертикальной разметки. <i>(Правила дорожного движения 2021., стр. 202)</i>	1
3.	Движение по загородным (сельским) дорогам	Сведения о сельском транспорте (тракторах и прицепах к ним, самоходных сельхозмашинах, гужевом транспорте); дополнительные требования к движению гужевых повозок и погону животных. <i>(Правила дорожного движения 2021., стр. 146)</i>	1
4.	Применение специальных сигналов. Первая доврачебная помощь.	Транспортные средства включенным проблесковым маячком синего цвета и специальным звуковым сигналом. <i>(Правила дорожного движения 2021., стр. 46)</i> Первая доврачебная помощь пострадавшему в ДТП, при потере им сознания и наличии дыхания и кровообращения.	1
5.	Контрольное занятие	Тест №1	1
6.	Дорожные знаки. Дополнительные требования к движению	Дорожный знак «Автомост». Дорожные знаки для велосипедистов и водителей мопедов. Правила движения велосипедистов и водителей мопедов вне населенных пунктов.	1

	велосипедистов и водителей мопедов.	(ПДД 2021., стр. 107)	
7.	Основные пути обеспечения дорожной безопасности. Порядок приоритета в регулировании дорожного движения.	Город как транспортная система. Организация и регулирование дорожного движения. Типы светофоров и их сигналы. Сигналы регулировщика. (Правила дорожного движения 2021., Стр. 65)	1
8.	Первая доврачебная помощь.	Правила наложения кровоостанавливающего жгута.	1
9.	Первичные действия при ДТП.	Основные понятия – Дорожно-транспортное происшествие (ДТП), «Страхование транспортных средств». Последовательность действий водителей в первые минуты после ДТП без пострадавших. (Правила дорожного движения 2021., Стр. 40)	1
10.	Итоговое занятие	Тест № 2.	1
		Итого часов:	10

10 класс

Тест №1



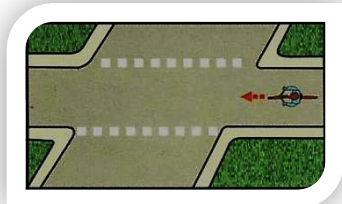
№ п. п.	Вопросы	Баллы
1.	<p>Инструкция: выберите правильный вариант ответа.</p> <p>Из предложенных дорожных знаков движение велосипедистов регулируют знаки</p> <p>А. 1, 2, 3, 4, 5. Б. 1, 2, 3, 5. В. 1, 2, 4.</p> <div style="display: flex; justify-content: space-around; align-items: center;"> <div style="text-align: center;"> 1</div> <div style="text-align: center;"> 2</div> <div style="text-align: center;"> 3</div> <div style="text-align: center;"> 4</div> <div style="text-align: center;"> 5</div> </div>	2
2.	<p>Инструкция: выберите правильный вариант ответа.</p> <p>Временная горизонтальная разметка имеет:</p> <p>А. Белый цвет. Б. Оранжевый цвет. В. Желтый цвет.</p>	2
3.	<p>Инструкция: выберите правильный вариант ответа.</p> <p>При приближении транспортных средств с включенным проблесковым маячком синего цвета и специальным звуковым сигналом пешеход обязан:</p> <p>А. Воздержаться от перехода дороги, а пешеходы, находящиеся на проезжей части должны немедленно ее освободить. Б. Продолжить движение со скоростью.</p>	2

	В. Воздержаться от перехода дороги, а пешеходы, находящиеся на проезжей части должны остановиться на линии разметки, чтобы при необходимости оказать первую помощь.	
4.	Инструкция: определите, какое утверждение верно. А. На всех перекрестках велосипедист имеет право повернуть направо. Б. На всех перекрестках велосипедист имеет право повернуть налево.	2
5.	Инструкция: определите, какое утверждение верно. А. Сигнал свистком регулировщика подает для привлечения внимания участников дорожного движения. Б. Сигнал свистком регулировщика подает для остановки транспортных средств.	2
6.	Инструкция: посмотрите на картинку, проанализируйте ситуацию. Выберите правильный ответ. Проанализируйте ситуацию и определите, где Василе разрешено продолжить передвижение в данной ситуации? А. Разрешено передвигаться по велосипедной дорожке. Б. Разрешено передвигаться по краю проезжей части навстречу движению транспортных средств. В. Разрешено передвигаться по краю проезжей части по ходу движения транспортных средств.	2
7.	Инструкция: посмотрите на картинку, проанализируйте ситуацию. Выберите правильный ответ. В каких направлениях велосипедист может продолжить движение на этом перекрестке? А. Прямо, направо. Б. Прямо, направо и налево. В. Налево и в обратном направлении.	2
8.	Инструкция: посмотрите на картинку, проанализируйте ситуацию. Выберите правильный ответ. Пассажир, сидящий на переднем сидении автомобиля, намерен выйти. Разрешено ли пассажиру так поступить в данной ситуации? А. Запрещено, так как посадку и высадку необходимо производить с стороны тротуара. Б. Разрешено, если это не создаст помех другим участникам движения. В. Разрешено в светлое время суток.	2
9.	Как следует уложить пострадавшего при потере им сознания и наличии дыхания и кровообращения для оказания первой помощи? А. На спину с подложенным под голову валиком. Б. На спину с вытянутыми ногами. В. Придать пострадавшему устойчивое боковое положение, чтобы согнутые колени опирались о землю, а верхняя рука находилась под щекой.	1
10.	Звуковые сигналы в населенных пунктах могут применяться: А. Для предупреждения об обгоне. Б. В случаях, когда это необходимо для предотвращения дорожно-транспортного происшествия.	1
11.	На заднем сиденье мотоцикла допускается перевозка пассажиров... А. Не младше 7-ми лет.	1

	Б. Не младше 12-ти лет. В. Не младше 16-ти лет. Г. Любого возраста.	
12.	Велосипедисту запрещено перевозить груз, выступающий по ширине и длине за габариты: А. Более чем на 0,5 метров. Б. Более чем на 0,7 метров. В. Более чем на 1 метр.	1

**10 класс
Тест №2**

№ п. п.	Вопросы	Баллы
1.	Инструкция: выберите правильный вариант ответа. Водителю mopеда въезжать на дорогу, обозначенную знаком «Автомост»: <ul style="list-style-type: none"> А. Разрешено. Б. Разрешено, но только по полосе для велосипедистов. В. Запрещено. 	2
2.	Инструкция: выберите верный вариант ответа (А, Б или В), в котором указана правильная последовательность. Определите порядок приоритетов в регулировании дорожного движения. <ul style="list-style-type: none"> 1. Знаки приоритета. 2. Регулировщик. 3. Светофор. 4. Главная дорога (по типу покрытия). 5. Договоренность между водителями. 6. Помеха справа. 7. В случае если невидны знаки приоритета или тип покрытия, водитель должен считать, что находится на второстепенной дороге. <ul style="list-style-type: none"> А. 1,2,3,4,5,6,7. Б. 2,3, 1,4,6, 5,7. В. 3,7,4, 2,1,6,5. 	2
3.	Инструкция: выберите верный вариант ответа (А, Б или В), в котором указана правильная последовательность. Определите последовательность действий водителей в первые минуты после ДТП без пострадавших. <ul style="list-style-type: none"> 1. Убрать автомобиль с дороги (освободить проезжую часть дороги). 2. Включить стояночный тормоз. 3. Установить позади машины знак аварийной остановки, в 15 м от машины в населенном пункте, 30 м в населенном пункте. 4. Заглушить двигатель. 5. Оформить документы ДТП. 6. Включить аварийные сигналы. 7. Совместно с другим участником ДТП выбрать наиболее подходящий ракурс и сфотографировать (снять на видео) все детали происшествия. <ul style="list-style-type: none"> А. 1,2,3,4,5,6,7. Б. 3,1,5,2,6,7,4. В. 4,2,6, 3,7,1,5. 	2
4.	Инструкция: определите, какое утверждение верно.	2

	<p>А. Велосипедистам запрещено поворачивать налево или разворачиваться на дороге с трамвайным движением на дороге, имеющей более одной полосы движения.</p> <p>Б. Велосипедистам разрешено поворачивать налево или разворачиваться на дороге с трамвайным движением на дороге, имеющей более одной полосы движения.</p>		
5.	<p>Инструкция: определите, какое утверждение верно.</p> <p>А. Водителю, сопытном вождении транспортного средства менее двух лет запрещено буксировать другое транспортное средство.</p> <p>Б. Водителю, вне зависимости от опыта вождения транспортного средства разрешено буксировать другое транспортное средство.</p>	2	
6.	<p>Инструкция: посмотрите на картинку, проанализируйте ситуацию. Выберите правильный ответ.</p> <p>Определите, как должен поступить пешеход, если ему надо попасть на другую сторону, а в зоне видимости нет пешеходных переходов?</p> <p>А. Пересечь проезжую часть дороги между противоположными углами перекрестка (наискось).</p> <p>Б. Пересечь проезжую часть дороги под прямым углом по линии тротуара.</p> <p>В. Возможно оба варианта (А и Б), если отсутствуют приближающиеся транспортные средства.</p>		2
7.	<p>Инструкция: посмотрите на картинку, проанализируйте ситуацию. Выберите правильный ответ.</p> <p>В каких направлениях велосипедист может продолжить движение на перекрестке?</p> <p>А. Только направо.</p> <p>Б. Прямо направо.</p> <p>В. Во всех направлениях.</p>		2
8.	<p>Управлять гужевой повозкой (саними) при движении по дорогам разрешается лицам...</p> <p>А. Не моложе 12 лет.</p> <p>Б. Не моложе 14 лет.</p> <p>В. Не моложе 16 лет.</p> <p>Г. Любого возраста.</p>	1	
9.	<p>На какой срок может быть наложен кровоостанавливающий жгут?</p> <p>А. Не более получаса в теплое время года и не более одного часа в холодное время года.</p> <p>Б. Не более одного часа в теплое время года и не более получаса в холодное время года.</p> <p>В. Время наложения жгута не ограничено.</p>	1	
10.	<p>Что означает эта дорожная разметка?</p> <p>А. Место перегона животных.</p> <p>Б. Место пересечения велосипедной дорожки с проезжей частью.</p> <p>В. Пешеходный переход.</p>		2
11.	<p>Как виден водителям пешеход в свете фар двух встречных автомобилей?</p> <p>А. Хорошо, ведь пешеход освещен с двух сторон.</p> <p>Б. Плохо, свет фар встречного автомобиля не позволяет вовремя заметить</p>	1	

	пешехода.	
12.	<p>На загородной дороге автобус совершил вынужденную стоянку. Какое место наиболее безопасно для перехода дороги в этой ситуации?</p> <p>А. Перед автобусом. Б. Сразу за автобусом. В. Не ближе 10-15 метров от автобуса.</p>	1



Перечень знаний и умений, которыми должны владеть обучающиеся 11 классов по правилам и безопасному поведению на дорогах.

Обучающиеся должны знать:

- Наличие регистрационных и отличительных знаков.
- Оознавательные знаки транспортных средств (автопоезд, учебный автомобиль и т.д.) Значение временных знаков и разметки. Случаи их применения. Знак аварийной остановки.
- Порядок перевозки людей в кузове грузового автомобиля. Требования к водителям, осуществляющих перевозку. Требования безопасности при перевозке детей. Правила безопасности при перевозке грузов.
- Влияние скорости движения и обгона, в интенсивном транспортном потоке на сокращение времени поездки. Статистика зависимости ДТП от скорости движения. Запрещения, действующие на автомагистралях.
- Способы буксировки. Требования к техническому состоянию при буксировке. Способы буксировки. Требования к техническому состоянию при буксировке.
- Правила оказания первой медицинской (доврачебной) помощи.

Обучающиеся должны уметь:

- Применять приемы самосохранения при возможном попадании в ДТП и ЧС в качестве пассажиров транспортных средств.
- Вызывать государственные службы безопасности и спасения.
- Ориентироваться в дорожных ситуациях (распознавать опасности и принимать адекватные решения).
- Применять знак аварийной остановки.
- Правильно закреплять груз на Т.С. (велосипед, мопед)
- Правильно действовать при вынужденной остановке (при поломке Т.С.)
- Применять приемы оказания первой (доврачебной) медицинской помощи.

**Организация и содержание учебно-воспитательного процесса с обучающимися 11 класса
Тематический план**

№ п/п	Тема	Содержание	Кол-во часов
-------	------	------------	--------------

1.	Остановка и стоянка. Дорожные знаки.	Правила постановки транспортных средств на остановку и стоянку. Соблюдение правил безопасности в случаях остановки для посадки и высадки пассажиров. Места, где остановка и стоянка запрещены. Опасные последствия несоблюдения правил остановки и стоянки. Вынужденная остановка. Действия водителя при вынужденной остановке. Обязанности водителя по соблюдению правил безопасности при оставлении транспортного средства. <i>(Правила дорожного движения 2021., стр. 97)</i> Дорожные знаки. Знаки сервиса (повторение) <i>(Правила дорожного движения 2021., стр.192)</i>	1
2.	Дорожные знаки и дорожная разметка. Применение знака аварийной остановки. Первая доврачебная помощь.	Дорожные знаки и дорожная разметка (повторение). Значение временных знаков и разметки. Случаи их применения. Знаки дополнительной информации. Знак аварийной остановки. <i>(Правила дорожного движения 2021., стр. 149)</i> Первая доврачебная помощь при травме позвоночника.	1
3.	Проезд перекрестков (повторение).	Правила проезда регулируемых и нерегулируемых перекрестков. Приоритет транспортных средств. Проезд по автомагистрали. <i>(ПДД-2021., стр.79, стр. 93)</i>	1
4.	Буксировка механических транспортных средств.	Способы буксировки. Требования к техническому состоянию при буксировке. Обозначение транспортных средств и включение сигналов. Случаи запрещения буксировки. Опасные последствия несоблюдения правил буксировки. <i>(ПДД 2021., стр. 101)</i>	1
5.	Контрольное занятие	Тест №1	1
6.	Движение по автомагистралям	Выбор скоростного режима и безопасность движения. Влияние скорости движения и обгона, в интенсивном транспортном потоке на сокращение времени поездки. Статистика зависимости ДТП от скорости движения. Запрещения, действующие на автомагистралях: ограничение маневрирования, движения определенных видов транспортных средств и пешеходов; запрещение учебного вождения, и т.д. Действия водителей при вынужденной остановке. <i>(Правила дорожного движения 2021., стр.122)</i>	1

7.	Перевозка людей и грузов	Транспортные средства для перевозки людей. Порядок перевозки людей в кузове грузового автомобиля. Требования к водителям, осуществляющих перевозку. Требования безопасности при перевозке детей. Правила безопасности при перевозке грузов (правила укладки и закрепления груза; учет влияния ветровой нагрузки на устойчивость и управляемость; обеспечение обзорности и т. д.) <i>(Правила дорожного движения 2021., стр. 138)</i>	1
8.	Начало движения, маневрирование.	Начало движения, перестроение, поворот (разворот), остановка. Сигналы световыми указателями поворота соответствующего направления. <i>(Правила дорожного движения 2021., стр. 68)</i>	1
9.	Административная ответственность. Первая доврачебная помощь.	Административная ответственность водителей за правонарушение. <i>(Правила дорожного движения 2021., стр. 236)</i> Автомобильная аптечка водителя. Первая доврачебная помощь при обморожениях и переохлаждениях.	1
10.	Итоговое занятие	Тест № 2.	1
		Итого часов:	10

11 класс
Тест №1

№ п. п.	Вопросы	Баллы
1.	Инструкция: выберите правильный вариант ответа. Буксировка велосипеда (мопеда) запрещена: А. Если у буксируемого велосипеда (мопеда) не исправно рулевое управление. Б. В темное время суток, а также в условиях недостаточной видимости. В. Буксировка велосипедов (мопедов) запрещена при любых условиях.	2
2.	Инструкция: выберите правильный вариант ответа. На нерегулируемом пересечении велосипедной дорожки с проезжей частью дороги, расположенном вне перекрестка, водители велосипедов и мопедов: А. Должны уступить дорогу транспортным средствам, движущимся по этой дороге. Б. Имеют приоритет и могут проехать первыми. В. Должны уступить дорогу транспортным средствам, движущимся справа.	2
3.	Инструкция: определите, какое утверждение верно. А. В зоне действия этого дорожного знака движение велосипедов запрещено. Б. В зоне действия этого дорожного знака движение велосипедов разрешено.	2












4.	Инструкция: определите, какое утверждение верно. А. При движении в условиях тумана расстояние до предметов представляется меньшим, чем в действительности. Б. При движении в условиях тумана расстояние до предметов представляется большим, чем в действительности.	2
5.	Инструкция: определите, какое утверждение верно. А. К механическим транспортным средствам относится гужевая повозка. Б. К транспортным средствам относится прицеп.	2
6.	Инструкция: посмотрите на картинку, проанализируйте ситуацию. Выберите правильный ответ. Как следует поступить водителю при посадке в автомобиль, припаркованный как на рисунке? А. Обойти автомобиль спереди. Б. Обойти автомобиль сзади. В. Допустимо с любой стороны.	2
7.	Инструкция: посмотрите на картинку, проанализируйте ситуацию. Выберите правильный ответ. Велосипедист движется по проезжей части дороги. В каких направлениях ему разрешено продолжить движение? А. Прямо направо. Б. Прямо и в обратном направлении. В. Во всех направлениях.	2
8.	Что означает мигание желтого сигнала светофора на перекрестке? А. Пешеход может переходить дорогу, убедившись в безопасности: перекресток не регулируется. Б. Переходить дорогу запрещается.	2
9.	Какую оптимальную позу следует придать пострадавшему, находящемуся в сознании, при подозрении на травму позвоночника? А. Уложить пострадавшего на бок. Б. Уложить пострадавшего на спину на твердой ровной поверхности, без необходимости его не перемещать, позу не менять. В. Уложить пострадавшего на спину, подложить под шею валик из одежды и приподнять ноги.	2
10.	Что обязаны сделать в первую очередь водители, причастные к дорожно-транспортному происшествию? А. Освободить проезжую часть. Б. Остановиться, включить аварийную сигнализацию и выставить знак аварийной остановки. В. Сообщить о случившемся в полицию.	2
11.	Какие знаки распространяют свое действие только на период времени, когда покрытие проезжей части влажное? А. Только А Б. А и Б В. Все знаки	1
12.	В каком случае водитель автомобиля имеет преимущество перед другими участниками движения?	1



<p>А. Только при включенном проблесковом маячке синего или бело-лунного цвета.</p> <p>Б. Только при включенном проблесковом маячке оранжевого или желтого цвета.</p> <p>В. Только при включенных проблесковом маячке синего (синего и красного) цвета и специальном звуковом сигнале.</p>	
---	--

**11 класс
Тест №2**

№ п. п.	Вопросы	Баллы						
1.	<p>Инструкция: подберите к каждому сигналу велосипедиста, изображенному ниже, правильное описание его назначения.</p> <p>В левом столбце изображены сигналы велосипедиста, в правом – значения сигналов. Выберите вариант ответа, в котором указаны верные соответствия.</p> <p>А. 1-В, 2-А, 3-Б. Б. 1-Б, 2-В, 3-А. В. 1-А, 2-Б, 3-В.</p> <table border="1" data-bbox="549 786 1390 1106"> <tr> <td align="center"></td> <td align="center"></td> <td align="center"></td> </tr> <tr> <td align="center">А. Поворот направо.</td> <td align="center">Б. Остановка (торможение).</td> <td align="center">В. Поворот налево.</td> </tr> </table>				А. Поворот направо.	Б. Остановка (торможение).	В. Поворот налево.	2
								
А. Поворот направо.	Б. Остановка (торможение).	В. Поворот налево.						
2.	<p>Инструкция: выберите правильный вариант ответа.</p> <p>При движении по краю проезжей части дороги лица, ведущие велосипед, должны слезать:</p> <p>А. По ходу движения транспортных средств. Б. Навстречу движению транспортных средств. В. В любом направлении движения транспортных средств.</p>	1						
3.	<p>Инструкция: определите, какое утверждение верно.</p> <p>А. Для нанесения дорожной разметки может использоваться четыре цвета. Б. Для нанесения дорожной разметки может использоваться три цвета.</p>	2						
4.	<p>При вынесении решения по делам административного судопроизводства принимаются во внимание:</p> <p>А. Объяснения лица, совершившего административное правонарушение, показания свидетелей, вещественные доказательства. Б. Показания технических средств контроля за дорогой, утвержденных в установленном порядке в качестве средств измерения, имеющих соответствующие сертификаты и прошедших метрологическую поверку. В. Все вышеперечисленное верно.</p>	2						
5.	<p>Инструкция: определите, какое утверждение верно.</p> <p>А. Автомобильную аптечку нельзя дополнять своими лекарственными препаратами и. Б. Автомобильную аптечку можно дополнять необходимыми для водителя лекарствами.</p>	1						

6.	<p>Инструкция: посмотрите на картинку, проанализируйте ситуацию. Выберите правильный ответ.</p> <p>Велосипедист собирается совершить разворот. Разрешено ли ему это сделать в данной ситуации?</p> <p>А. Разрешено, так как дорога имеет одну полосу для движения.</p> <p>Б. Разрешено в случае, если он не создает помех для других участников движения.</p> <p>В. Запрещено, так как данная дорога имеет одностороннее движение.</p>	2
7.	<p>Инструкция: посмотрите на картинку, проанализируйте ситуацию. Выберите правильный ответ:</p> <p>Водитель пассажир, которые не пристегнуты ремнями безопасности, едут в автомобиле. Кто из участников дорожного движения несет административную ответственность за данное нарушение?</p> <p>А. Водитель, так как несет ответственность за жизнь пассажира.</p> <p>Б. Пассажир, так как совершает поездку в транспортном средстве, оборудованном ремнями безопасности.</p> <p>В. Пассажир и водитель, так как несут ответственность за нарушение правил дорожного движения.</p>	2
8.	<p>Инструкция: посмотрите на картинку, проанализируйте ситуацию. Выберите правильный ответ.</p> <p>В грузовом автомобиле с бортовой платформой перевозят груз и сопровождающих его лиц. Разрешается ли людям, при движении автомобиля, находиться в кузове автомобиля?</p> <p>А. Разрешается, если они обеспечены местом для сидения, расположенным ниже уровня бортов.</p> <p>Б. Разрешается в кузове закрытого типа.</p> <p>В. Запрещается, так как автомобиль не оборудован местами для перевозки людей.</p>	2
9.	<p>Где разрешается стоянка в целях длительного отдыха или ночлега на дорогах вне населенного пункта?</p> <p>А. Только на предусмотренных для этого площадках или за пределами дороги.</p> <p>Б. В любом месте на обочине.</p> <p>В. Только на хорошо просматриваемом месте на обочине.</p>	2
10.	<p>Как оказать первую помощь при отморожении и переохлаждении?</p> <p>А. Растереть пораженные участки тела снегом или шерстью, затем их утеплить, дать алкоголь, переместить в теплое помещение.</p> <p>Б. Утеплить пораженные участки тела и обездвижить их, укутать пострадавшего теплой одеждой или пледом, дать теплое питье, переместить в теплое помещение.</p>	2

	В. Смазать пораженные участки тела кремом, наложить согревающий компресс и грелку, переместить в теплое помещение, дать теплое питье.	
11.	Разрешена ли Вам перевозка людей в салоне легкового автомобиля, буксирующего неисправное транспортное средство? А. Да Б. Нет	1
12.	Разрешается ли учебная езда на автомагистрали? А. Разрешается. Б. Разрешается только по крайней правой полосе. В. Запрещается.	1

Механизм реализации программы.

Механизм реализации программы предусматривает формирование рабочих документов: создание нормативно-правового обеспечения программы, создание системы классных часов по изучению Правил дорожного движения.

Организация и контроль хода реализации программы.

Контроль над ходом реализации программы осуществляет заместитель директора по воспитательной работе образовательного учреждения. Исполнители программных мероприятий (классные руководители) отчитываются каждую учебную четверть о выполнении программы заместителю директора по воспитательной работе. Заместитель директора по воспитательной работе готовит ежегодный отчет по ходу реализации программы.

Оценка эффективности реализации программы.

Оценка эффективности реализации программы осуществляется на основе обобщенных оценочных показателей, включающих его системный, содержательный и организационный характер.

Результативность реализации программы измеряется уменьшением количества нарушений по правилам дорожного движения, уровнем усвоения программного материала и набранных баллов за ответы:

от **17** до **20** баллов – **высокий уровень знаний;**

от **12** до **16** баллов – **средний уровень знаний;**

11 баллов и ниже – **низкий уровень знаний.**

Используемая литература.

1. Правила дорожного движения Российской Федерации (с изменениями и дополнениями на 05 мая 2021года)
2. Пакет заданий для проведения тестирования обучающихся общеобразовательных организаций по тематике безопасности дорожного движения. Разработчик: Главное управление обеспечения безопасности дорожного движения МВД России (Москва), март 2021г.

3. Справочное издание: ПДД 2021 с фотоиллюстрациями и комментариями с самыми последними изменениями и дополнениями. — Москва: Эксмо, 2020. — 176 с.: ил. — (Правила Дорожного Движения). Ответственный редактор Р. Мубаракшин.

4. Правила дорожного движения 2021 на пальцах: просто, понятно, легко запомнить / П. Громов. — Москва: Издательство АСТ, 2020. — 288 с. — (ПДД 3D).

Приложение.

Ключи ответов

**Ключ ответов 5 класс,
тест № 1**

№ вопроса	1	2	3	4	5	6	7	8	9	10
№ ответа	Б	Б	А	Б	А	Г	В	В	А	В

**Ключ ответов 5 класс,
тест № 2**

№ вопроса	1	2	3	4	5	6	7	8	9	10
№ ответа	Б	А	А	Б	В	А	А	А	В	Г

**Ключ ответов 5 класс,
тест № 3**

№ вопроса	1	2	3	4	5	6	7	8	9	10
------------------	----------	----------	----------	----------	----------	----------	----------	----------	----------	-----------

№ ответа	В	Б	Б	А	В	В	Б	В	А	Б
---------------------	----------	----------	----------	----------	----------	----------	----------	----------	----------	----------

**Ключ ответов 5 класс,
тест № 4**

№ вопроса	1	2	3	4	5	6	7	8	9	10
№ ответа	В	А	В	В	Б	А	А	Б	А	А

**Ключ ответов 6 класс,
тест № 1**

№ вопроса	1	2	3	4	5	6	7	8	9	10
№ ответа	Б	А	А	В	Б	А	В	В	В	Б

**Ключ ответов 6 класс,
тест № 2**

№ вопроса	1	2	3	4	5	6	7	8	9	10
№ ответа	А	Д	А	Б	Г	Б	Б	Б	Б	А

**Ключ ответов 6 класс,
тест № 3**

№ вопроса	1	2	3	4	5	6	7	8	9	10
№ ответа	А	Б	Б	Б	Б	В	А	А	Б	В

**Ключ ответов 6 класс,
тест № 4**

№ вопроса	1	2	3	4	5	6	7	8	9	10
№ ответа	А	Б	В	Б	А	А	Б	Д	В	А

**Ключ ответов 7 класс,
тест № 1**

№ вопроса	1	2	3	4	5	6	7	8	9	10
№ ответа	Б	В	А	Б	А	Б	В	А	Б	Б

Ключ ответов 7 класс,

тест № 2

№ вопроса	1	2	3	4	5	6	7	8	9	10
№ ответа	А	Б	Б	Б	Б	В	А	А	А	В

Ключ ответов 7 класс,
тест № 3

№ вопроса	1	2	3	4	5	6	7	8	9	10
№ ответа	Б	Б	В	А	В	В	А	А	Б	А

Ключ ответов 7 класс,
тест № 4

№ вопроса	1	2	3	4	5	6	7	8	9	10
№ ответа	А	Б	А	Б	В	А	В	А	А	Б

Ключ ответов 8 класс,
тест № 1

№ вопроса	1	2	3	4	5	6	7	8	9	10
№ ответа	Б	А	В	Б	А	Г	В	В	А	В

Ключ ответов 8 класс,
тест № 2

№ вопроса	1	2	3	4	5	6	7	8	9	10
№ ответа	А	А	В	Б	В	В	В	В	Б	В

Ключ ответов 8 класс,
тест № 3

№ вопроса	1	2	3	4	5	6	7	8	9	10
№ ответа	В	Б	В	А	В	В	В	Б	В	Б

Ключ ответов 8 класс,
тест № 4

№ вопроса	1	2	3	4	5	6	7	8	9	10
№ ответа	А	А	В	В	Б	В	А	В	Б	А

**Ключ ответов 9 класс,
тест № 1**

№ вопроса	1	2	3	4	5	6	7	8	9	10	11	12
№ ответа	А	Б	А	А	В	Г	А	Б	А	В	Б	В

**Ключ ответов 9 класс,
тест № 2**

№ вопроса	1	2	3	4	5	6	7	8	9	10	11	12
№ ответа	А	А	В	Б	В	А	В	В	Б	Б	А	Г

**Ключ ответов 10 класс,
тест № 1**

№ вопроса	1	2	3	4	5	6	7	8	9	10	11	12
№ ответа	Б	Б	А	А	А	А	А	Б	В	Б	Б	В

**Ключ ответов 10 класс,
тест № 2**

№ вопроса	1	2	3	4	5	6	7	8	9	10	11	12
№ ответа	В	Б	В	А	А	Б	Б	Б	Б	Б	Б	В

**Ключ ответов 11 класс,
тест № 1**

№ вопроса	1	2	3	4	5	6	7	8	9	10	11	12
№ ответа	В	А	Б	Б	Б	А	А	А	Б	Б	А	В

**Ключ ответов 11 класс,
тест № 2**

№ вопроса	1	2	3	4	5	6	7	8	9	10	11	12
№ ответа	А	А	А	В	Б	В	В	А	А	Б	А	В

Рецензия
на образовательную программу деятельности по формированию навыков
безопасного поведения на улицах и дорогах для учащихся 5-11 классов г. Сарапула
разработанную заместителем директора по воспитательной работе
ГКОУ УР «СОШ №5 с ОБЗ»
Мухановой Светланой Владиславовной

Статистические данные о детском травматизме и несчастных случаях свидетельствуют о том, что необходимо более углублённо работать по проблеме обучения школьников правилам дорожного движения. Задачу подготовки грамотных, культурных и дисциплинированных участников дорожного движения призвана решить «Образовательная программа деятельности по формированию навыков безопасного поведения на улицах и дорогах г. Сарапула».

Основанием составления данной программы стали следующие рекомендованные нормативные документы:

- Стратегия безопасности дорожного движения в Российской Федерации на 2018 - 2024 годы.

- Подпрограмма «Повышение безопасности дорожного движения» на 2014 - 2025 годы Государственной программы Удмуртской Республики "Развитие транспортной системы Удмуртской Республики"

- Правила дорожного движения Российской Федерации (с изменениями и дополнениями на 05 мая 2021года).

Образовательная программа деятельности по формированию навыков безопасного поведения на улицах и дорогах г. Сарапула разработана с определённой целью:

- Создание условий для формирования у обучающихся устойчивых навыков безопасного поведения на улицах и дорогах

Программа рассчитана на учащихся 5-11 классов. В рамках классных часов для каждой параллели четко определено необходимое количество часов на изучение раздела Правил дорожного движения.

Структура программы соответствует предъявляемым требованиям, строго выдержана. В программе предусмотрен контроль знаний обучающихся, разработана оценка эффективности реализации программы, указан прогнозируемый результат.

Рекомендуемые учебно-методические пособия для данной программы позволят классным руководителям, не имея специальной подготовки, обучить учащихся Правилам дорожного движения.

Достоинством данной образовательной программы является то, что при построении программы по изучению Правил дорожного движения включены три аспекта взаимодействия ребенка с транспортной системой города:

- ребенок – пешеход;
- ребенок – пассажир городского транспорта;
- ребенок – водитель детских транспортных средств.

Стоит также отметить, как положительную сторону программы, что в ходе её реализации будут задействованы межпредметные связи гуманитарных и технических дисциплин.

Программа научит обучающихся школы безопасному поведению в различных ситуациях на дороге, закрепит знания Правил дорожного движения, будет способствовать воспитанию личности, стремящейся к здоровому образу жизни.

Программа отвечает современным требованиям, доступна для работы в системе образования, соответствует его специфике.

**Инспектор по пропаганде безопасности дорожного движения
отдела ГИБДД Межведомственного отдела МВД России «Сарапульский»
Т.Н. Мерзлякова**